



عرضه خدمات صابر در افغانستان

سروی تعلیمی

۲۰۱۷

مادیول ۵ الف – ارزیابی شاگرد

کتابچه مصاحبه کننده



اطلاعات سابقه (پس زمینه)

از سوال ۱-۴ باید قبل از مصاحبه تکمیل شود

نوت برای مصاحبه کننده (ارزیابی کننده): لطفاً تمام جوابات را واضحاً تنها با حروف بزرگ نوشته کنید!

کد	اسم	
_____		1. اسم مصاحبه کننده
_____		2. نام مکتب و کد سرویی
_____		3. کد EMIS مکتب/ شماره ثبت
____/____/____	روز/ماه/سال (مثال 15/04/16)	4. تاریخ
____:____:____	وقت به شکل 24 ساعته (مثال 08:30)	5. آغاز ارزیابی
____:____:____	وقت به شکل 24 ساعته (مثال 14:30)	6. ختم ارزیابی

نظارت	کد	جواب	امضا	تاریخ روز/ماه/سال (مثال 15/04/16)
		1.		2.
7. خلاصه پرسشنامه	الف. مصاحبه کننده	_____		____/____/____
	ب. سوپروایزر	_____		____/____/____
	د. وارد کننده اطلاعات	_____		____/____/____
	<u>کد های نتایج سروی :</u> 1=پرسشنامه تکمیل شده 2=پرسشنامه تکمیل نشده 3=مکتب بسته بود 4=رد گردید			

### مادیول ۵- رهنمایی برای مصاحبه کننده:

شما رهنمایی را برای شاگردان بخوانید، ولی آنها را در جواب دادن کمک نکنید.

شما باید به راحت ترین زبان که برای دانش آموز قابل درک باشد صحبت نمایید.

قبل از اینکه شما ارزیابی را آغاز نمایید، برای دانش آموز چیزی که در حال وقوع است توضیح نمایید. لطفاً معرفی ذیل را بخوانید:

سلام اسم من \_\_\_\_\_ است. من اینجا برای پیدا کردن در مورد چیزهایی که شما در حال یادگیری در مکتب هستید استم، پس تشکر برای کمک کردن با من. اولاً من بعضی سولات را از شما در باره گرفتن معلومات میپرسم. بعداً، من بعضی سولات را برای شما میخوانم و از شما خواهم میکنم که آنها را در کتابچه تان بنویسید. میشود که آغاز کنیم؟

### بخش: حروف، شماره و شناسایی کلمات

سوال ۱. رهنمایی: از شاگرد بپرسید که سه شماره را دقیقاً شناسایی نماید.

بطور مثال، بپرسید: لطفاً، میتوانید که شماره ۳۴ را حلقه نمایید؟

لطفاً، میتوانید که شماره ۱۲ را حلقه نمایید؟

لطفاً، میتوانید که شماره ۹ را حلقه نمایید؟

سوال ۲. رهنمایی: از شاگرد بپرسید که سه حروف را دقیقاً شناسایی نماید.

بطور مثال، بپرسید: لطفاً، میتوانید که حرف (ع) را حلقه نمایید؟

لطفاً، میتوانید که حرف (ح) را حلقه نمایید؟

لطفاً، میتوانید که حرف (س) را حلقه نمایید؟

سوال ۳. رهنمایی: از شاگرد بپرسید که سه کلمات را دقیقاً شناسایی نماید.

بطور مثال، بپرسید: لطفاً، میتوانید که کلمه (احوال پرسی) را حلقه نمایید؟

لطفاً، میتوانید که کلمه (احترام) را حلقه نمایید؟

لطفاً، میتوانید که کلمه (کیله ها) را حلقه نمایید؟

سوال ۴. رهنمایی: از شاگرد بپرسید که یک تصویر را دقیقاً شناسایی نماید.

بطور مثال، بپرسید: لطفاً، میتواند که (بوت ها) ها را حلقه نمایید؟

حالا شما ۳۰ دقیقه برای تکمیل نمودن بخش خواندن و ۳۰ دقیقه برای تکمیل نمودن بخش ریاضی دارید.

شناسایی حروف، شماره ها و کلمات

۱. لطفاً اعداد را که توسط استاد نشان داده شده حلقه نمایید.

۵۵	۳	۲۳
۴	۱۲	۶
۳۴	۲۱	۹

۲. به تعقیب آن لطفاً حروف که توسط استاد نشان داده شده است حلقه نمایید.

ل	ع	ح
ف	ذ	و
ا	س	ث

۳. لطفاً کلمات کہ توسط استاد نشان داده شده است حلقہ نمایید.

داستان	احترام	زیر
احوال پرسى	سبز	کیلہ ها
بیرون	پدر	میوه

۴. لطفاً تصویر را حلقہ نمایید کہ به کلمہ گفته شده استاد مطابقت داشته باشد.





عرضه خدمات صابر در افغانستان

سروی تعلیمی

۲۰۱۷

مادیول ۵ ب – ارزیابی شاگرد

لسان



اطلاعات سابقه (پس زمینه)

از سوال ۱-۴ باید قبل از مصاحبه تکمیل شود

نوت برای مصاحبه کننده (ارزیابی کننده): لطفاً تمام جوابات را واضحاً تنها با حروف بزرگ نوشته کنید!

کد	اسم	
_____		1. اسم مصاحبه کننده
_____		2. نام مکتب و کد سرویی
_____		3. کد EMIS مکتب/ شماره ثبت
____/____/____	روز/ماه/سال (مثال 15/04/16)	4. تاریخ
____:____:____	وقت به شکل 24 ساعته (مثال 08:30)	5. آغاز ارزیابی
____:____:____	وقت به شکل 24 ساعته (مثال 14:30)	6. ختم ارزیابی

نظارت	کد	جواب	امضا	تاریخ روز/ماه/سال (مثال 15/04/16)
		1.		2.
7. خلاصه پرسشنامه	الف. مصاحبه کننده	_____		____/____/____
	ب. سوپروایزر	_____		____/____/____
	د. وارد کننده اطلاعات	_____		____/____/____

کد های نتایج سروی :  
 1= پرسشنامه تکمیل شده  
 2= پرسشنامه تکمیل نشده  
 3= مکتب بسته بود  
 4= رد گردید

معلومات ابتدایی ارزیابی شاگرد

1.	اسم متعلم  _____	ID:  ____   ____
2.	شما چند ساله هستید؟	____   ____
3.	آیا شما پسر هستید و یا دختر؟	<input type="checkbox"/> = پسر <input type="checkbox"/> = دختر
4.	شما همراه با کی در خانه زنده گی میکنید؟	<input type="checkbox"/> ۱ = من همراه با هر دو پدر و مادر خود زنده گی میکنم <input type="checkbox"/> ۲ = همراه مادرم زنده گی میکنم <input type="checkbox"/> ۳ = همراه پدرم زنده گی میکنم <input type="checkbox"/> ۴ = همراه با عضو دیگر خانواده زنده گی میکنم <input type="checkbox"/> ۵ = تنها زنده گی میکنم <input type="checkbox"/> ۶ = در جای که کار میکنم در همانجا زنده گی میکنم
5.	شما در خانه چند برادر و خواهر دارید؟	____
6.	پدر شما چقدر تحصیل کرده است؟	<input type="checkbox"/> ۱ = بیسواد <input type="checkbox"/> ۲ = مکتب ابتداییه <input type="checkbox"/> ۳ = مکتب متوسطه <input type="checkbox"/> ۴ = فارغ صنف ۱۲ <input type="checkbox"/> ۵ = ۱۴ پاس <input type="checkbox"/> ۶ = دیپلوم لیسانس و یا بالاتر از آن
7.	مادر شما چقدر تحصیل کرده است؟	<input type="checkbox"/> ۱ = بیسواد <input type="checkbox"/> ۲ = مکتب ابتداییه <input type="checkbox"/> ۳ = مکتب متوسطه <input type="checkbox"/> ۴ = فارغ صنف ۱۲ <input type="checkbox"/> ۵ = ۱۴ پاس <input type="checkbox"/> ۶ = دیپلوم لیسانس و یا بالاتر از آن
8.	وسیله حمل و نقل شما به مکتب چی است؟	<input type="checkbox"/> ۱ = قدم زدن <input type="checkbox"/> ۲ = بایسکل <input type="checkbox"/> ۳ = ملی بس <input type="checkbox"/> ۴ = موتر سائیکل <input type="checkbox"/> ۵ = تکسی <input type="checkbox"/> ۶ = موتر
9.	مکتب رفتن شما چقدر وقت را دربر میگیرد؟	____   ____  دقیقه
10.	آیا شما امروز قبل از مکتب آمدن جای صبح صرف کرده بودید؟	<input type="checkbox"/> ۱ = بلی، در خانه <input type="checkbox"/> ۲ = بلی، در مکتب <input type="checkbox"/> ۳ = نخیر
11.	آیا شما سال قبل در این مکتب بودید؟	<input type="checkbox"/> ۱ = بلی <input type="checkbox"/> ۲ = نخیر
12.	آیا شما اطاق در خانه دارید که در آن بخوابید؟	<input type="checkbox"/> ۱ = بلی <input type="checkbox"/> ۲ = نخیر
13.	چند نفر در اطاق شما میخوابد؟	____   ____
14.	در خانه به کدام زبان صحبت میکنید؟	<input type="checkbox"/> ۱ = دری <input type="checkbox"/> ۲ = پشتو <input type="checkbox"/> ۳ = ازبیکی <input type="checkbox"/> ۴ = ترکمنی <input type="checkbox"/> ۵ = بلوچی <input type="checkbox"/> ۶ = پشه یی <input type="checkbox"/> ۷ = نورستانی <input type="checkbox"/> ۸ = هزاره گی <input type="checkbox"/> ۹ = دیگر (لطفاً مشخص نمایید)
15.	در مکتب تان به کدام زبان صحبت میکنید؟	<input type="checkbox"/> ۱ = دری <input type="checkbox"/> ۲ = پشتو <input type="checkbox"/> ۳ = ازبیکی <input type="checkbox"/> ۴ = ترکمنی <input type="checkbox"/> ۵ = بلوچی <input type="checkbox"/> ۶ = پشه یی <input type="checkbox"/> ۷ = نورستانی <input type="checkbox"/> ۸ = هزاره گی <input type="checkbox"/> ۹ = دیگر (لطفاً مشخص نمایید)



<p>۱۶. معمولاً چند بار در خانه دری/پشتو صحبت میکنید؟</p> <p>۱ □ = تقریباً همه روزه ۲ □ = یکبار یا دو بار در هفته ۳ □ = یکبار در هفته ۴ □ = هیچ وقت نی</p>	
<p>آیا در خانه که شما فعلاً زنده گی میکنید اشیای ذیل را دارد؟</p>	
<p>۱۷. برق</p> <p>۱ □ = بلی      ۲ □ = نخیر</p>	
<p>۱۸. آب جاری در داخل خانه</p> <p>۱ □ = بلی      ۲ □ = نخیر</p>	
<p>۱۹. دیوار ها ساخته شده کانکریت، سمنت و یا سنگ هستند</p> <p>۱ □ = بلی      ۲ □ = نخیر</p>	
<p>۲۰. چت فلزی</p> <p>۱ □ = بلی      ۲ □ = نخیر</p>	
<p>۲۱. تشناب</p> <p>۱ □ = بلی      ۲ □ = نخیر</p>	
<p>۲۲. تخت</p> <p>۱ □ = بلی      ۲ □ = نخیر</p>	
<p>۲۳. رادیو</p> <p>۱ □ = بلی      ۲ □ = نخیر</p>	
<p>۲۴. تلویزیون</p> <p>۱ □ = بلی      ۲ □ = نخیر</p>	
<p>۲۵. یخچال</p> <p>۱ □ = بلی      ۲ □ = نخیر</p>	
<p>۲۶. موترسایکل/ موتر</p> <p>۱ □ = بلی      ۲ □ = نخیر</p>	
<p>۲۷. حیوانات (اسپ، مرغ، بزها، گوسفند ها)</p> <p>۱ □ = بلی      ۲ □ = نخیر</p>	
<p>۲۸. کتاب</p> <p>۱ □ = بلی      ۲ □ = نخیر</p>	
<p>۲۹. موبایل</p> <p>۱ □ = بلی      ۲ □ = نخیر</p>	
<p>۳۰. کمپیوتر</p> <p>۱ □ = بلی      ۲ □ = نخیر</p>	
<p>۳۱. اغلباً شما چند بار برای مکتب تان کارخانه گی را انجام میدید؟</p> <p>۱ □ = همه روزه ۲ □ = یکبار در هفته ۳ □ = کمتر از یکبار در هفته ۴ □ = هیچ وقت</p>	
<p>۳۲. معمولاً همراه با شما کی در کار خانه گی کمک میکند؟</p> <p>۱ □ = هیچ کس      ۲ □ = برادر و خواهرم      ۳ □ = والدین ۴ □ = استاد ۵ □ = دیگر (مشخص نمایید) _____</p>	
<p>۳۳. بلندترین درجه تحصیل را که شما آرزو بدست آوردن انرا دارید کدام است؟</p> <p>۱ □ = مکتب ابتداییه ۲ □ = مکتب متوسطه ۳ □ = فارغ صنف ۱۲ ۴ □ = پاس ۵ □ = دیپلوم لیسانس ۶ □ = ماستری و یا بالاتر از آن</p>	
<p>۳۴. در ماه گذشته، شما چند روز به مکتب نرفتید؟</p> <p>۱ □ = هیچ ۲ □ = در بین ۱-۵ روز ۳ □ = بیشتر از ۵ روز</p>	
<p>۳۵. اسم و اسم فامیلی استاد ریاضی شما چه است؟</p> <p>در سال جاری   _____ در سال قبلی   _____</p>	
<p>۳۶. اسم و اسم فامیلی استاد لسان (دری/پشتو) شما چه است؟</p> <p>در سال جاری   _____ در سال قبلی   _____</p>	

## شناسایی حروف، شماره ها و کلمات

۱. لطفاً اعداد را که توسط استاد نشان داده شده حلقه نمایید.

۵۵	۳	۲۳
۴	۱۲	۶
۳۴	۲۱	۹

۲. به تعقیب آن لطفاً حروف که توسط استاد نشان داده شده است حلقه نمایید.

ل	ع	ح
ف	ذ	و
ا	س	ث

۳. لطفاً کلمات کہ توسط استاد نشان داده شده است حلقه نمایید.

داستان	احترام	زیر
احوال پرسى	سبز	کیله ها
بیرون	پدر	میوه

۴. لطفاً تصویر را حلقه نمایید کہ به کلمه گفته شده استاد مطابقت داشته باشد.



۳۰ دقیقه برای تکمیل نمودن

**خواندن**

**بخش الف:**

لغت صحیح را از صندوق انتخاب نمایید و در خانه خالی آنرا برای تکمیل نمودن قصه جابجا نمایید.

کشت، در، مزرعه، پدرم

والدین من دهاقین اند. (۱) آنها بسیار بزرگ نیست. آنها جواری و پنبه (۲) می کنند. سال قبلی، آنها حاصل بسیار کم بدست آوردند. بخاطریکه (۳) مریض شد و تنها مادرم (۴) مزرعه کار کرد.

**بخش ب:**

جواب درست را انتخاب نمایید و کلمه درست را در برگه جوابات بنویسید.

۵. ما \_\_\_\_\_ زبان مادری با دیگران رابطه برقرار میکنیم.

☐ الف) توست      ☐ ب) طوست      ☐ ج) توسط      ☐ د) در

۶. پرویز \_\_\_\_\_ را به صحرا برد.

☐ الف) گوسفند      ☐ ب) گوسفندان      ☐ ج) کشتی      ☐ د) کشتی ها

۷. ما باید ----- خوب و نیکو داشته باشیم

☐ الف) اخلاق      ☐ ب) مهربان      ☐ ج) درستکاری      ☐ د) راستگویی

۸. فریده \_\_\_\_\_ نفری بود که در مسابقات دوش جایزه گرفت

☐ الف) سومین ☐ ب) سه ☐ ج) چهار ☐ د) هرگز

۹. حمید و شیدا دختران زحمتکش هستند. \_\_\_\_\_ به یکدیگر کمک میکنند.

☐ الف) او ☐ ب) تو ☐ ج) ما ☐ د) آنها

### زمانها:

۱۰. ز گھوارہ تا گور دانش \_\_\_\_\_

☐ الف) میجویم ☐ ب) بجوی ☐ ج) بجویند ☐ د) میجویند

۱۱. آن دختر دیروز به مسجد \_\_\_\_\_

☐ الف) رونده ☐ ب) میروند ☐ ج) میروود ☐ د) رفت

۱۲. مادرم امروز کچالو \_\_\_\_\_.


☐ الف) می پزد ☐ ب) پختن ☐ ج) بپزد ☐ د) میپزید

### بخش ج:

لطفاً متن ذیل را بخوانید و به سوالات ذیل جواب بدهید:

حیوانات جنگل یک گروه خوشحال بودند. تمام حیوانات هر صبح برای بحث کردن موضوعات جنگل ملاقات میکردند.

هر کدام آنها به نوبه خود صحبت میکردند، اما هیچ کسی به زرافه گوش نمیداد. زرافه بسیار قد بلند بود. زمانیکه زرافه سر خود را برای صحبت کردن پایین کرد حیوانات دیگر علاقمندی نسبت به زرافه را از دست میدادند.




۱۳. حیوانات هر صبح در باره چی صحبت میکردند؟

- ☐ A. در باره زرافه
- ☐ B. در باره پلنگ
- ☐ C. در باره موضوعات جنگل
- ☐ D. درباره شادی

14. چرا هیچ کسی به زرافه گوش نمیداد؟

- ☐ A. او به نوبه خود برای صحبت کردن منتظر نمیبود
- ☐ B. او بسیار آهسته صحبت میکرد و شنیده نمیشد
- ☐ C. او بسیار قد بلند بود
- ☐ D. او بسیار دوستانه نبود



بنا بر این زرافه سر بلند خود را بلند کرد و سرگردان می‌گشت. او در طول تمام روز سر خود را در درختان با صرف خوردن شیرین ترین برگ ها سپری میکرد. او نمی فهمید که پرنده ها از سر بزرگ وی هنگامیکه ناگهان درنوک درختان ظاهر میشد میترسیدند. و یا حیوانات کوچک در زمین فرار میکردند بخاطریکه آنها از زیر پا شدن میترسیدند. بعد از مدتی، زرافه ی تنها، صحبت کردن را همراه با دیگران متوقف ساخت. و این تا به آخر تابستان خشک طولانی ادامه پیدا کرد.

۱۵. کدام برگها را زرافه میخورد؟

- A. ☐ زرد
- B. ☐ شیرین ترین
- C. ☐ تنهایی
- D. ☐ خشک

۱۶. چرا حیوانات کوچک روی زمین از زرافه میترسیدند؟

- A. ☐ او ناگهانی ظاهر میشد
- B. ☐ او سر بزرگ داشت
- C. ☐ او شاید بالایشان قدم میگذاشت
- D. ☐ او تمام برگهای آنها را میخورد

۱۷. زرافه در طول تابستان انجام دادن کدام کارها را متوقف ساخت؟

- A. ☐ از سرگردان گشتن
- B. ☐ ترساندن پرنده ها
- C. ☐ ظاهر شدن در نوک درختان
- D. ☐ صحبت کردن با دیگران



بعداً فصل بارنده گی رسید. باران برای چندین روز بارید. حیوانات باهم در زیر بته نشستند. پلنگ سرو صدایی را از دور شنید. هیچ کس فکر کرده نمیتوانست که آن صدا چی بود. زرافه از بالای سر حیوانات بر روی زمین نگاه کرد. چشم های خود را مانند بشقاب بزرگ کرد و او به آرامی پایین آمد تا حیوانات مضطرب او را شنیده بتوانند. زرافه گفت، "در دریا سیل آمده است". یک موج بلند آب به طرف پایین دره می آید و به زودی به اینجا خواهد رسید. آهو پرسید، "ما چی میتوانیم کرد؟" بسیار دیر شده است که ما فرار کنیم.

۱۸. چرا حیوانات با هم در زیر بته نشسته بودند؟

- A. ☐ باران میبارید  
B. ☐ آنها از زرافه ترسیده بودند  
C. ☐ آنها سرو صدا را شنیدند  
D. ☐ بالا شدن در درخت مشکل بود

۱۹. "چشم های او مانند بشقاب بزرگ شد". این کلمات قصه در باره زرافه برای شما چی را بیان میکند؟

- A. ☐ او خوش بود  
B. ☐ او ترسیده بود  
C. ☐ او قهر بود  
D. ☐ او حیاجانی شده بود

20. سرو صدای فاصله دور چی بود؟

- A. ☐ پلنگ  
B. ☐ سیل  
C. ☐ شادی  
D. ☐ افتیدن از درخت



شادی از نوک درخت صدا زد. ” در این جا بالا شوید“  
 ” رود خانه نمیتواند که به شاخچه های بلند اینجا برسد“



حیوانات به طرف درخت به شدت دویدند. ولی بعضی از آنها نتوانستند که در تنه لغزنده (لشم) درخت بالا شوند. کف پای آنها و دم های آنها برای بالا شدن درخت ساخته نشده بود.

۲۱. برای حیوانات کی گفت که به درخت بالا شوند؟

A. زرافه      B. پلنگ      C. روباه      D. شادی

۲۲. چرا حیوانات کوشش میکردند که به نوک درخت بالا شوند.

A. از آب دور باشند      B. برای دیدن قریه  
 C. رسیدن به برگ های شیرین      D. برای پنهان شدن از پلنگ

۲۳. چرا بعضی از حیوانات نمیتوانستند که به تنه لغزنده (لشم) درخت بالا شوند؟

A. بخاطریکه آنها ترسیده بودند      B. بخاطریکه به درخت بالا شدن مشکل بود  
 C. بخاطر شاخ و کف پای شان      D. بخاطر سیلاب



عرضه خدمات صابر در افغانستان

سروی تعلیمی

۲۰۱۷

مادیول ۵ ب – ارزیابی شاگرد

لسان



اطلاعات سابقه (پس زمینه)

از سوال ۱-۴ باید قبل از مصاحبه تکمیل شود

نوت برای مصاحبه کننده (ارزیابی کننده): لطفاً تمام جوابات را واضحاً تنها با حروف بزرگ نوشته کنید!

اسم		کد
1.	اسم مصاحبه کننده	_____
2.	نام مکتب و کد سرویی	_____
3.	کد EMIS مکتب/ شماره ثبت	_____
4.	تاریخ	روز/ماه/سال (مثال 15/04/16)
5.	آغاز ارزیابی	وقت به شکل 24 ساعته (مثال 08:30)
6.	ختم ارزیابی	وقت به شکل 24 ساعته (مثال 14:30)

نظارت			کد	جواب	امضا	تاریخ روز/ماه/سال (مثال 15/04/16)
				1.		2.
7.	خلاصه پرسشنامه	الف. مصاحبه کننده	کد های نتایج سروی : 1=پرسشنامه تکمیل شده 2=پرسشنامه تکمیل نشده 3=مکتب بسته بود 4=رد گردید	_____		_____
		ب. سوپروایزر		_____		_____
		د. وارد کننده اطلاعات		_____		_____

۳۰ دقیقه برای تکمیل نمودن**خواندن****بخش الف:**

لغت صحیح را از صندوق انتخاب نمایید و در خانه خالی آنرا برای تکمیل نمودن قصه جابجا نمایید.

کشت، در، مزرعه، پدرم

والدین من دهاقین اند. (۱) \_\_\_\_\_ آنها بسیار بزرگ نیست. آنها جواری و پنبه (۲) \_\_\_\_\_ می کنند. سال قبلی، آنها حاصل بسیار کم بدست آوردند. بخاطریکه (۳) \_\_\_\_\_ مریض شد و تنها مادرم (۴) \_\_\_\_\_ مزرعه کار کرد.

**بخش ب:**

جواب درست را انتخاب نمایید و کلمه درست را در برگه جوابات بنویسید.

۵. ما \_\_\_\_\_ زبان مادری با دیگران رابطه برقرار میکنیم.

☐ الف) توست      ☐ ب) طوست      ☐ ج) توسط      ☐ د) در

۶. پرویز \_\_\_\_\_ را به صحرا برد.

☐ الف) گوسفند      ☐ ب) گوسفندان      ☐ ج) کشتی      ☐ د) کشتی ها

۷. ما باید ----- خوب و نیکو داشته باشیم

☐ الف) اخلاق      ☐ ب) مهربان      ☐ ج) درستکاری      ☐ د) راستگویی

۸. فریده \_\_\_\_\_ نفری بود که در مسابقات دوش جایزه گرفت

☐ الف) سومین ☐ ب) سه ☐ ج) چهار ☐ د) هرگز

۹. حمید و شیدا دختران زحمتکش هستند. \_\_\_\_\_ به یکدیگر کمک میکنند.

☐ الف) او ☐ ب) تو ☐ ج) ما ☐ د) آنها

### زمانها:

۱۰. ز گھوارہ تا گور دانش \_\_\_\_\_

☐ الف) میجویم ☐ ب) بجوی ☐ ج) بجویند ☐ د) میجویند

۱۱. آن دختر دیروز به مسجد \_\_\_\_\_

☐ الف) رونده ☐ ب) میروند ☐ ج) میروند ☐ د) رفت

۱۲. مادرم امروز کچالو \_\_\_\_\_.


☐ الف) می پزد ☐ ب) پختن ☐ ج) بپزد ☐ د) میپزید

### بخش ج:

لطفاً متن ذیل را بخوانید و به سوالات ذیل جواب بدهید:

حیوانات جنگل یک گروه خوشحال بودند. تمام حیوانات هر صبح برای بحث کردن موضوعات جنگل ملاقات میکردند.

هر کدام آنها به نوبه خود صحبت میکردند، اما هیچ کسی به زرافه گوش نمیداد. زرافه بسیار قد بلند بود. زمانیکه زرافه سر خود را برای صحبت کردن پایین کرد حیوانات دیگر علاقمندی نسبت به زرافه را از دست میدادند.




۱۳. حیوانات هر صبح در باره چی صحبت میکردند؟

- ☐ A. در باره زرافه
- ☐ B. در باره پلنگ
- ☐ C. در باره موضوعات جنگل
- ☐ D. درباره شادی

14. چرا هیچ کسی به زرافه گوش نمیداد؟

- ☐ A. او به نوبه خود برای صحبت کردن منتظر نمیبود
- ☐ B. او بسیار آهسته صحبت میکرد و شنیده نمیشد
- ☐ C. او بسیار قد بلند بود
- ☐ D. او بسیار دوستانه نبود



بنا بر این زرافه سر بلند خود را بلند کرد و سرگردان می‌گشت. او در طول تمام روز سر خود را در درختان با صرف خوردن شیرین ترین برگ ها سپری میکرد. او نمی فهمید که پرنده ها از سر بزرگ وی هنگامیکه ناگهان درنوک درختان ظاهر میشد میترسیدند. و یا حیوانات کوچک در زمین فرار میکردند بخاطریکه آنها از زیر پا شدن میترسیدند. بعد از مدتی، زرافه ی تنها، صحبت کردن را همراه با دیگران متوقف ساخت. و این تا به آخر تابستان خشک طولانی ادامه پیدا کرد.

۱۵. کدام برگها را زرافه میخورد؟

- A. ☐ زرد
- B. ☐ شیرین ترین
- C. ☐ تنهایی
- D. ☐ خشک

۱۶. چرا حیوانات کوچک روی زمین از زرافه میترسیدند؟

- A. ☐ او ناگهانی ظاهر میشد
- B. ☐ او سر بزرگ داشت
- C. ☐ او شاید بالایشان قدم می‌گذاشت
- D. ☐ او تمام برگهای آنها را میخورد

۱۷. زرافه در طول تابستان انجام دادن کدام کارها را متوقف ساخت؟

- A. ☐ از سرگردان گشتن
- B. ☐ ترساندن پرنده ها
- C. ☐ ظاهر شدن در نوک درختان
- D. ☐ صحبت کردن با دیگران



بعداً فصل بارنده گی رسید. باران برای چندین روز بارید. حیوانات باهم در زیر بته نشستند. پلنگ سرو صدایی را از دور شنید. هیچ کس فکر کرده نمیتوانست که آن صدا چی بود. زرافه از بالای سر حیوانات بر روی زمین نگاه کرد. چشم های خود را مانند بشقاب بزرگ کرد و او به آرامی پایین آمد تا حیوانات مضطرب او را شنیده بتوانند. زرافه گفت، "در دریا سیل آمده است". یک موج بلند آب به طرف پایین دره می آید و به زودی به اینجا خواهد رسید. آهو پرسید، "ما چی میتوانیم کرد؟" بسیار دیر شده است که ما فرار کنیم.

۱۸. چرا حیوانات با هم در زیر بته نشسته بودند؟

- A. ☐ باران میبارید  
B. ☐ آنها از زرافه ترسیده بودند  
C. ☐ آنها سرو صدا را شنیدند  
D. ☐ بالا شدن در درخت مشکل بود

۱۹. "چشم های او مانند بشقاب بزرگ شد". این کلمات قصه در باره زرافه برای شما چی را بیان میکند؟

- A. ☐ او خوش بود  
B. ☐ او ترسیده بود  
C. ☐ او قهر بود  
D. ☐ او حیاجانی شده بود

20. سرو صدای فاصله دور چی بود؟

- A. ☐ پلنگ  
B. ☐ سیل  
C. ☐ شادی  
D. ☐ افتیدن از درخت



شادی از نوک درخت صدا زد. ” در این جا بالا شوید“  
 ” رود خانه نمیتواند که به شاخچه های بلند اینجا برسد“



حیوانات به طرف درخت به شدت دویدند. ولی بعضی از آنها نتوانستند که در تنه لغزنده (لشم) درخت بالا شوند. کف پای آنها و دم های آنها برای بالا شدن درخت ساخته نشده بود.

۲۱. برای حیوانات کی گفت که به درخت بالا شوند؟

A. زرافه      B. پلنگ      C. روباه      D. شادی

۲۲. چرا حیوانات کوشش میکردند که به نوک درخت بالا شوند.

A. از آب دور باشند      B. برای دیدن قریه  
 C. رسیدن به برگ های شیرین      D. برای پنهان شدن از پلنگ

۲۳. چرا بعضی از حیوانات نمیتوانستند که به تنه لغزنده (لشم) درخت بالا شوند؟

A. بخاطریکه آنها ترسیده بودند      B. بخاطریکه به درخت بالا شدن مشکل بود  
 C. بخاطر شاخ و کف پای شان      D. بخاطر سیلاب



عرضه خدمات صابر در افغانستان

سروی تعلیمی

**2017**

مادیول ۵ ج - ارزیابی شاگرد

ریاضی



اطلاعات سابقہ (پس زمینه)

از سوال ۱-۴ باید قبل از مصاحبہ تکمیل شود

نوت برای مصاحبہ کنندہ (ارزیابی کنندہ): لطفاً تمام جوابات را واضحاً تنها با حروف بزرگ نوشته کنید!

کد	اسم	
_____		1. مصاحبہ کنندہ
_____		2. نام مکتب و کد سرویی
_____		3. کد EMIS مکتب/ شماره ثبت
____/____/____	روز/ماه/سال (مثال 15/04/16)	4. تاریخ
____:____:____	وقت به شکل 24 ساعته (مثال 08:30)	5. آغاز ارزیابی
____:____:____	وقت به شکل 24 ساعته (مثال 14:30)	6. ختم ارزیابی

نظارت	کد	جواب	امضا	تاریخ (15/04/16 روز/ماه/سال مثال)
		1.		2.
7. خلاصہ پرسشنامہ	الف. مصاحبہ کنندہ	_____		____/____/____
	ب. سوپروایزر	_____		____/____/____
	د. اطلاعات شرکت کنندہ	_____		____/____/____

کد های نتایج سروی  
 پرسشنامہ تکمیل شدہ = 1  
 پرسشنامہ تکمیل نداشتہ = 2  
 مکتب بسته بود = 3  
 رد گردید = 4

معلومات ابتدایی ارزیابی دانش آموز (شاگرد)

1.	اسم متعلم   _____	ID:  ____   ____
2.	شما چند ساله هستید؟	____   ____
3.	آیا شما پسر هستید و یا دختر؟	<input type="checkbox"/> = پسر <input type="checkbox"/> = دختر
4.	شما همراه با کی در خانه زنده گی میکنید؟	<input type="checkbox"/> ۱ = من همراه با پدر و مادر خود زنده گی میکنم <input type="checkbox"/> ۲ = همراه مادرم زنده گی میکنم <input type="checkbox"/> ۳ = همراه پدرم زنده گی میکنم <input type="checkbox"/> ۴ = همراه با عضو دیگر خانواده زنده گی میکنم <input type="checkbox"/> ۵ = تنها زنده گی میکنم <input type="checkbox"/> ۶ = در جای که کار میکنم در همانجا زنده گی میکنم
5.	شما در خانه چند برادر و خواهر دارید؟	____
6.	پدر شما چقدر تحصیل کرده است؟	<input type="checkbox"/> ۱ = بیسواد <input type="checkbox"/> ۲ = مکتب ابتداییه <input type="checkbox"/> ۳ = مکتب متوسطه <input type="checkbox"/> ۴ = فارغ صنف ۱۲ <input type="checkbox"/> ۵ = ۱۴ پاس <input type="checkbox"/> ۶ = دیپلوم لیسانس و یا بالاتر از آن
7.	مادر شما چقدر تحصیل کرده است؟	<input type="checkbox"/> ۱ = بیسواد <input type="checkbox"/> ۲ = مکتب ابتداییه <input type="checkbox"/> ۳ = مکتب متوسطه <input type="checkbox"/> ۴ = فارغ صنف ۱۲ <input type="checkbox"/> ۵ = ۱۴ پاس <input type="checkbox"/> ۶ = دیپلوم لیسانس و یا بالاتر از آن
8.	وسیله حمل و نقل شما به مکتب چی است؟	<input type="checkbox"/> ۱ = قدم زدن <input type="checkbox"/> ۲ = بایسکل <input type="checkbox"/> ۳ = ملی بس <input type="checkbox"/> ۴ = موتر سائیکل <input type="checkbox"/> ۵ = تکسی <input type="checkbox"/> ۶ = موتر
9.	مکتب رفتن شما چقدر وقت را دربر میگیرد؟	____   ____  دقیقه
10.	آیا شما امروز قبل از مکتب آمدن جای صبح صرف کرده بودید؟	<input type="checkbox"/> ۱ = بلی، در خانه <input type="checkbox"/> ۲ = بلی، در مکتب <input type="checkbox"/> ۳ = نخیر
11.	آیا شما سال قبلی در این مکتب بودید؟	<input type="checkbox"/> ۱ = بلی <input type="checkbox"/> ۲ = نخیر
12.	آیا شما اطاق در خانه دارید که در آن بخوابید؟	<input type="checkbox"/> ۱ = بلی <input type="checkbox"/> ۲ = نخیر
13.	چند نفر در اطاق شما میخوابد؟	____   ____
14.	در خانه به کدام زبان صحبت میکنید؟	<input type="checkbox"/> ۱ = دری <input type="checkbox"/> ۲ = پشتو <input type="checkbox"/> ۳ = ازبیکی <input type="checkbox"/> ۴ = ترکمنی <input type="checkbox"/> ۵ = بلوچی <input type="checkbox"/> ۶ = پشه یی <input type="checkbox"/> ۷ = نورستانی <input type="checkbox"/> ۸ = هزاره گی <input type="checkbox"/> ۹ = دیگر (لطفاً مشخص نمایید)
15.	در مکتب تان به کدام زبان صحبت میکنید؟	<input type="checkbox"/> ۱ = دری <input type="checkbox"/> ۲ = پشتو <input type="checkbox"/> ۳ = ازبیکی <input type="checkbox"/> ۴ = ترکمنی <input type="checkbox"/> ۵ = بلوچی <input type="checkbox"/> ۶ = پشه یی <input type="checkbox"/> ۷ = نورستانی <input type="checkbox"/> ۸ = هزاره گی <input type="checkbox"/> ۹ = دیگر (لطفاً مشخص نمایید)

16.	معمولاً چند بار در خانه دری/پشتو صحبت میکنید؟	<input type="checkbox"/> ۱ = تقریباً همه روزه <input type="checkbox"/> ۲ = یکبار یا دو بار در هفته <input type="checkbox"/> ۳ = یکبار در هفته <input type="checkbox"/> ۴ = هیچ وقت نی
ایا در خانه که شما فعلاً زنده گی میکنید اشیای ذیل را دارد؟		
17.	برق	<input type="checkbox"/> ۱ = بلی <input type="checkbox"/> ۲ = نخیر
18.	آب جاری در داخل خانه	<input type="checkbox"/> ۱ = بلی <input type="checkbox"/> ۲ = نخیر
19.	دیوار ها ساخته شده کانکریت، سمنت و یا سنگ هستند	<input type="checkbox"/> ۱ = بلی <input type="checkbox"/> ۲ = نخیر
20.	چت فلزی	<input type="checkbox"/> ۱ = بلی <input type="checkbox"/> ۲ = نخیر
21.	تشناب	<input type="checkbox"/> ۱ = بلی <input type="checkbox"/> ۲ = نخیر
22.	تخت	<input type="checkbox"/> ۱ = بلی <input type="checkbox"/> ۲ = نخیر
23.	رادیو	<input type="checkbox"/> ۱ = بلی <input type="checkbox"/> ۲ = نخیر
24.	تلویزیون	<input type="checkbox"/> ۱ = بلی <input type="checkbox"/> ۲ = نخیر
25.	یخچال	<input type="checkbox"/> ۱ = بلی <input type="checkbox"/> ۲ = نخیر
26.	موتورسایکل/ موتر	<input type="checkbox"/> ۱ = بلی <input type="checkbox"/> ۲ = نخیر
27.	حیوانات (اسپ، مرغ، بزها، گوسفند ها)	<input type="checkbox"/> ۱ = بلی <input type="checkbox"/> ۲ = نخیر
28.	کتاب	<input type="checkbox"/> ۱ = بلی <input type="checkbox"/> ۲ = نخیر
29.	موبایل	<input type="checkbox"/> ۱ = بلی <input type="checkbox"/> ۲ = نخیر
30.	کمپیوتر	<input type="checkbox"/> ۱ = بلی <input type="checkbox"/> ۲ = نخیر
31.	اغلباً شما چند بار برای مکتب تان کارخانه گی را انجام میدید؟	<input type="checkbox"/> ۱ = همه روزه <input type="checkbox"/> ۲ = یکبار در هفته <input type="checkbox"/> ۳ = کمتر از یکبار در هفته <input type="checkbox"/> ۴ = هیچ وقت
32.	معمولاً همراه با شما کی در کار خانه گی کمک میکند؟	<input type="checkbox"/> ۱ = هیچ کس <input type="checkbox"/> ۲ = برادر و خواهرم <input type="checkbox"/> ۳ = والدین <input type="checkbox"/> ۴ = استاد <input type="checkbox"/> ۵ = دیگر (مشخص نمایید) _____
33.	بلندترین درجه تحصیل را که شما آرزو بدست آوردن انرا دارید کدام است؟	<input type="checkbox"/> ۱ = مکتب ابتداییه <input type="checkbox"/> ۲ = مکتب متوسطه <input type="checkbox"/> ۳ = فارغ صنف ۱۲ <input type="checkbox"/> ۴ = ۱۴ پاس <input type="checkbox"/> ۵ = دیپلوم لیسانس <input type="checkbox"/> ۶ = ماستری و یا بالاتر از آن
34.	در ماه گذشته، شما چند روز به مکتب نرفتید؟	<input type="checkbox"/> ۱ = هیچ <input type="checkbox"/> ۲ = در بین ۱-۵ روز <input type="checkbox"/> ۳ = بیشتر از ۵ روز
35.	اسم و اسم فامیلی استاد ریاضی شما چه است؟	در سال جاری   _____ در سال قبلی   _____
36.	اسم و اسم فامیلی استاد لسان (دری/پشتو) شما چه است؟	در سال جاری   _____ در سال قبلی   _____

شناسایی حروف، شماره ها و کلمات

۱. لطفاً اعداد را که توسط استاد نشان داده شده حلقه نمایید.

۵۵	۳	۲۳
۴	۱۲	۶
۳۴	۲۱	۹

۲. به تعقیب آن لطفاً حروف که توسط استاد نشان داده شده است حلقه نمایید.

ل	ع	ح
ف	ذ	و
ا	س	ث

۳. لطفاً کلمات کہ توسط استاد نشان داده شده است حلقہ نمایید.

داستان	احترام	زیر
احوال پرسى	سبز	کیلہ ها
بیرون	پدر	میوه

۴. لطفاً تصویر را حلقہ نمایید کہ به کلمہ گفته شده استاد مطابقت داشته باشد.



۳۰ دقیقہ برای تکمیل نمودن:

ریاضی

5. لطفاً این اعداد را به ترتیب شماره گذاری نمایید، از کوچک به بزرگ:

۱۱۷      ۹۸۷      ۱۷      ۲      ۵۵      ۱۳۳

جواب:

6. لطفاً جواب درست را به معادله های ذیل ارایه نمایید:

معادلات (مساوات)	جواب
$۸+۷$	
$۲۸+۲۷$	
$۳۳۵+۱۴۵$	
$۸-۵$	
$۵۷-۴۹$	
$۴۴۳-۱۲۲$	



7. لطفا جواب درست را به معادله های ذیل ارایه نمایید:


معادله (مساوات)	جواب
$7 \times 8 =$	
$37 \times 40 =$	
$214 \times 104 =$	
$\begin{array}{r} 6 \quad   \quad 3 \\ \hline \end{array}$	
$\begin{array}{r} 75 \quad   \quad 5 \\ \hline \end{array}$	
$\begin{array}{r} 369 \quad   \quad 3 \\ \hline \end{array}$	

۸. سه هزار و بیست و سه بطور ذیل نوشته میشود:

- A. ☐ ۳۲۳  
 B. ☐ ۳۰۲۳  
 C. ☐ ۳۰۰۲۳  
 D. ☐ ۳۰۰۰۲۳

جواب: \_\_\_\_\_

۹.  $\frac{1}{3}$  حصه کدام مستطیل ذیل سیاه شده؟



جواب: \_\_\_\_\_

۱۰. احمد ۱۶ دانه سیب داشت، او ۴ سیب را دور کرد. بعد احمد سیب های باقیمانده را به طور مساوی در دو سبد تقسیم کرد.

احمد در هر سبد چند دانه سیب مانده است؟

- A. ☐ ۶  
 B. ☐ ۸  
 C. ☐ ۱۰  
 D. ☐ ۱۲

جواب: \_\_\_\_\_

۱۱. حنیف به نوشتن سلسله مراتب اعداد شروع کرد.

۶, ۱۳, ۲۰, ۲۷, ...

او عدد مشابه را برای بدست آوردن عدد بعدی علاوه کرد. عدد بعدی که او در سلسله مراتب اعداد علاوه میکند چند است؟

جواب: \_\_\_\_\_

12. در این وقت بکتاش به طرف خانه خواهر خود حرکت کرد. او در 45 دقیقه به آنجا میرسد.

بکتاش چه وقت به آنجا رسید؟



۸:۲۵ A. ☐

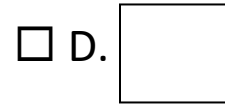
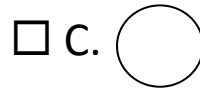
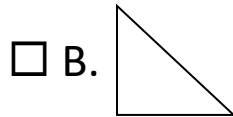
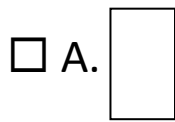
۶:۳۵ B. ☐

۷:۲۰ C. ☐

۵:۴۰ D. ☐

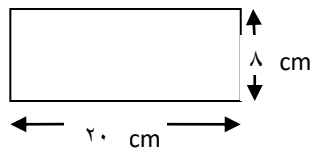
جواب: \_\_\_\_\_

۱۳. کدام یکی از اشکال ذیل شکل مربع را دارد؟



جواب: \_\_\_\_\_

۱۴. مساحت مستطیل ذیل چند است؟



- ☐ A. ۵۶ سانتی متر  
☐ B. ۱۶۰ سانتی متر  
☐ C. ۵۶ سانتی متر مربع  
☐ D. ۱۶۰ سانتی متر مربع

جواب: \_\_\_\_\_

۱۵. برهان ۵ کتابچه خرید، هر کتابچه ۲۵۰ افغانی قیمت داشت، او در مجموع چند افغانی پرداخت نمود؟

جواب: \_\_\_\_\_

۱۶. اگر شما ۲۰۰۰ متر را به کیلومتر تبدیل نمایید، معادل آن چند خواهد شد؟

- ☐ A. ۲۰ کیلومتر
- ☐ B. ۰,۲ کیلومتر
- ☐ C. ۲۰۰۰۰۰۰ کیلومتر
- ☐ D. ۲ کیلومتر

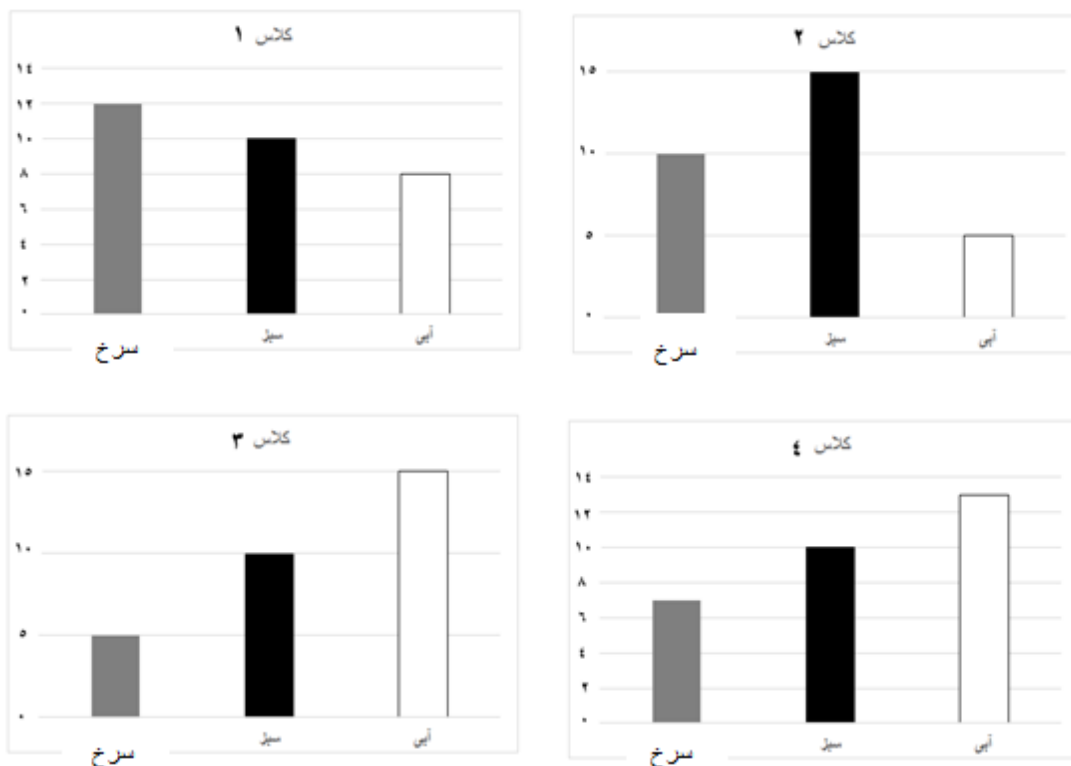
جواب: \_\_\_\_\_

۱۷. داوود 4.8 کیلومتر مصافه را توسط موتر طی کرد، و 1.5 کیلومتر مصافه را توسط موترسایکل. مجموع مصافه طی شده داوود چند کیلومتر است؟

- ☐ A. ۶,۳ کیلومتر
- ☐ B. ۵,۸ کیلومتر
- ☐ C. ۵,۱۳ کیلومتر
- ☐ D. ۴,۹۵ کیلومتر

جواب: \_\_\_\_\_

۱۸. بکتاش یک نظر سنجی رنگهای پسندیده شاگردان را در چهار صنف تکمیل نمود.



(i) در کدام صنف کمترین تعداد شاگردان رنگ آبی را انتخاب نموده اند؟

- A. صنف ۱ ☐
- B. صنف ۲ ☐
- C. صنف ۳ ☐
- D. صنف ۴ ☐

(ii) زمانی که هر چهار صنف را با هم یکجا کنید کدام رنگ را بیشترین شاگردان ترجیح داده اند؟

- A. ☐ سرخ
- B. ☐ سبز
- C. ☐ آبی



عرضه خدمات صابر در افغانستان

سروی تعلیمی

**2017**

مادیول ۵ ج - ارزیابی شاگرد

ریاضی



اطلاعات سابقہ (پس زمینه)

از سوال ۱-۴ باید قبل از مصاحبہ تکمیل شود

نوت برای مصاحبہ کنندہ (ارزیابی کنندہ): لطفاً تمام جوابات را واضحاً تنها با حروف بزرگ نوشته کنید!

کد	اسم	
_____		1. مصاحبہ کنندہ
_____		2. نام مکتب و کد سرویی
_____		3. کد EMIS مکتب/ شماره ثبت
____/____/____	روز/ماه/سال (مثال 15/04/16)	4. تاریخ
____:____:____	وقت به شکل 24 ساعته (مثال 08:30)	5. آغاز ارزیابی
____:____:____	وقت به شکل 24 ساعته (مثال 14:30)	6. ختم ارزیابی

نظارت	کد	جواب	امضا	تاریخ (15/04/16 روز/ماه/سال مثال)
		1.		2.
7. خلاصہ پرسشنامہ	الف. مصاحبہ کنندہ	_____		____/____/____
	ب. سوپروایزر	_____		____/____/____
	د. اطلاعات شرکت کنندہ	_____		____/____/____

کد های نتایج سروی  
 پرسشنامہ تکمیل شدہ = 1  
 پرسشنامہ تکمیل نداشتہ = 2  
 مکتب بسته بود = 3  
 رد گردید = 4



ID: |\_\_\_\_| |\_\_\_\_|

اسم متعلم |\_\_\_\_\_|

۳۰ دقیقہ برای تکمیل نمودن:

ریاضی

5. لطفاً این اعداد را به ترتیب شماره گذاری نمایید، از کوچک به بزرگ:

۱۱۷      ۹۸۷      ۱۷      ۲      ۵۵      ۱۳۳

جواب: \_\_\_\_\_

6. لطفاً جواب درست را به معادله های ذیل ارایه نمایید:

معادلات (مساوات)	جواب
$۸+۷$	
$۲۸+۲۷$	
$۳۳۵+۱۴۵$	
$۸-۵$	
$۵۷-۴۹$	
$۴۴۳-۱۲۲$	

7. لطفا جواب درست را به معادله های ذیل ارایه نمایید:


معادله (مساوات)	جواب
$7 \times 8 =$	
$37 \times 40 =$	
$214 \times 104 =$	
$\begin{array}{r} 6 \quad   \quad 3 \\ \hline \end{array}$	
$\begin{array}{r} 75 \quad   \quad 5 \\ \hline \end{array}$	
$\begin{array}{r} 369 \quad   \quad 3 \\ \hline \end{array}$	

۸. سه هزار و بیست و سه بطور ذیل نوشته میشود:

- A. ☐ ۳۲۳  
B. ☐ ۳۰۲۳  
C. ☐ ۳۰۰۲۳  
D. ☐ ۳۰۰۰۲۳

جواب: \_\_\_\_\_

۹.  $\frac{1}{3}$  حصه کدام مستطیل ذیل سیاه شده؟



جواب: \_\_\_\_\_

۱۰. احمد ۱۶ دانه سیب داشت، او ۴ سیب را دور کرد. بعد احمد سیب های باقیمانده را به طور مساوی در دو سبد تقسیم کرد.

احمد در هر سبد چند دانه سیب مانده است؟

- A. ☐ ۶  
B. ☐ ۸  
C. ☐ ۱۰  
D. ☐ ۱۲

جواب: \_\_\_\_\_

۱۱. حنیف به نوشتن سلسله مراتب اعداد شروع کرد.

۶, ۱۳, ۲۰, ۲۷, ...

او عدد مشابه را برای بدست آوردن عدد بعدی علاوه کرد. عدد بعدی که او در سلسله مراتب اعداد علاوه میکند چند است؟

جواب: \_\_\_\_\_

12. در این وقت بکتاش به طرف خانه خواهر خود حرکت کرد. او در 45 دقیقه به آنجا میرسد.

بکتاش چه وقت به آنجا رسید؟



A. ☐ ۸:۲۵

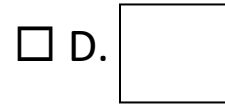
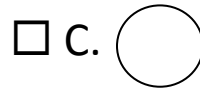
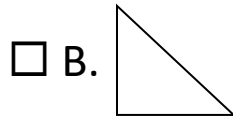
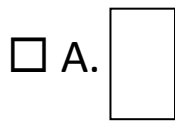
B. ☐ ۶:۳۵

C. ☐ ۷:۲۰

D. ☐ ۵:۴۰

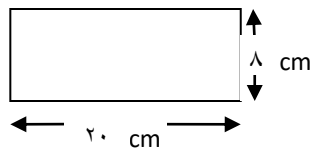
جواب: \_\_\_\_\_

۱۳. کدام یکی از اشکال ذیل شکل مربع را دارد؟



جواب: \_\_\_\_\_

۱۴. مساحت مستطیل ذیل چند است؟



- ☐ A. ۵۶ سانتی متر  
☐ B. ۱۶۰ سانتی متر  
☐ C. ۵۶ سانتی متر مربع  
☐ D. ۱۶۰ سانتی متر مربع

جواب: \_\_\_\_\_

۱۵. برهان ۵ کتابچه خرید، هر کتابچه ۲۵۰ افغانی قیمت داشت، او در مجموع چند افغانی پرداخت نمود؟

جواب: \_\_\_\_\_

۱۶. اگر شما ۲۰۰۰ متر را به کیلومتر تبدیل نمایید، معادل آن چند خواهد شد؟

- ☐ A. ۲۰ کیلومتر
- ☐ B. ۰,۲ کیلومتر
- ☐ C. ۲۰۰۰۰۰۰ کیلومتر
- ☐ D. ۲ کیلومتر

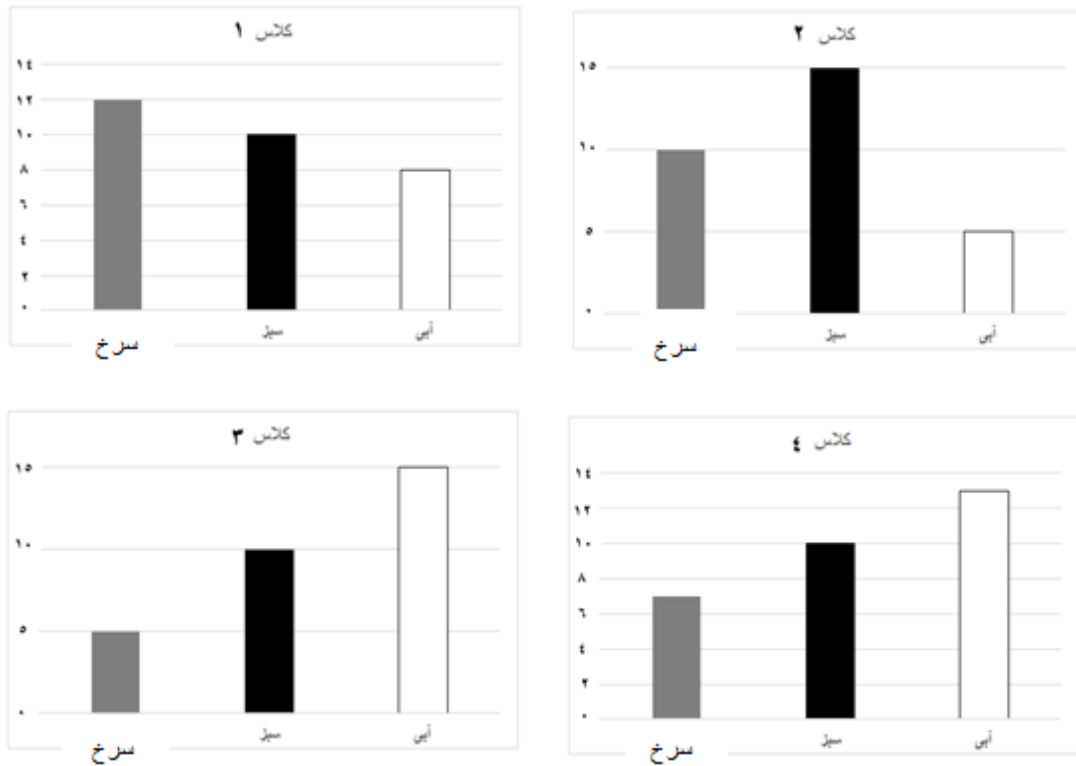
جواب: \_\_\_\_\_

۱۷. داوود ۴.۸ کیلومتر مصافه را توسط موتر طی کرد، و ۱.۵ کیلومتر مصافه را توسط موترسایکل. مجموع مصافه طی شده داوود چند کیلومتر است؟

- ☐ A. ۶,۳ کیلومتر
- ☐ B. ۵,۸ کیلومتر
- ☐ C. ۵,۱۳ کیلومتر
- ☐ D. ۴,۹۵ کیلومتر

جواب: \_\_\_\_\_

۱۸. بکتاش یک نظر سنجی رنگهای پسندیده شاگردان را در چهار صنف تکمیل نمود.



(i) در کدام صنف کمترین تعداد شاگردان رنگ آبی را انتخاب نموده اند؟

A. صنف ۱ ☐

B. صنف ۲ ☐

C. صنف ۳ ☐

D. صنف ۴ ☐

(ii) زمانی که هر چهار صنف را با هم یکجا کنید کدام رنگ را بیشترین شاگردان ترجیح داده اند؟

A. ☐ سرخ

B. ☐ سبز

C. ☐ آبی