

SURVAI
ASPEK KEHIDUPAN RUMAH TANGGA INDONESIA 1997

PENGALAMAN
BAHASA INDONESIA
Umur 10-12 tahun



DEPARTEMEN PENDIDIKAN DAN KEBUDAYAAN
BADAN PENELITIAN DAN PENGEMBANGAN PENDIDIKAN DAN KEBUDAYAAN
PUSAT PENELITIAN DAN PENGEMBANGAN SISTEM PENGUJIAN

bekerja sama dengan

LEMBAGA DEMOGRAFI FAKULTAS EKONOMI
UNIVERSITAS INDONESIA

RAND

1997

1. Musa : ...
Kakek : Oh, Musa!
Musa : Kakek sedang apa?
Kakek : Saya sedang memupuk pohon jeruk!

Kalimat sapaan yang tepat dari Musa untuk melengkapi percakapan di atas adalah

- A. Sini, Kek!
- B. Hai Kakek!
- C. Selamat siang, Kakek!

2. Toto : Maukah kamu belajar bersama denganku?
Banu :

Apabila Banu tidak setuju, jawaban yang benar adalah

- A. Tidak mau!
- B. Saya, tidak ingin belajar denganmu!
- C. Maaf, hari ini saya tidak bisa belajar bersama!

3. Pada suatu hari Ike melangkah lebih cepat.
Ia melihat langit amat kelam. Tampaknya sebentar lagi turun hujan

Kalimat yang paling tepat untuk melengkapi cerita di atas adalah

- A. Ike tidak ingin kehujanan di jalan.
- B. Hari sudah mulai malam.
- C. Ike ingin cepat pulang.

4. Tabel berikut yang paling baik adalah

A.

Nomor	Nama Siswa	Asal
1	Didi	Laki-laki
2	Mira	Wanita
3	Titi	Wanita
4	Safari	Laki-laki
5	Nunung	Wanita

B.

Nomor	Nama Siswa	Kelas
1	Didi	TK
2	Mira	SD
3	Titi	SMP
4	Safari	SD
5	Nunung	TK

C.

Nomor	Nama Siswa	Umur
1	Didi	8,5 th
2	Mira	8 th
3	Titi	9 th
4	Safari	9 th
5	Nunung	8 th

5.

Jakarta, 30 September 1996
Kepada
Yth. Bapak Wali Kelas IIIA
di
Sekolah

.....
Bersama surat ini, saya memberitahukan bahwa saya hari ini tidak dapat masuk sekolah karena sakit.

Oleh karena itu, saya mohon ijin untuk tidak mengikuti pelajaran di sekolah. Saya ucapkan terima kasih atas perhatian Bapak.

Banu

Titik-titik pada surat di atas, harus dilengkapi dengan kalimat

- A. Salam sejahtera,
 - B. Halo, Selamat pagi,
 - C. Dengan hormat,
6. Paman Inu memperkenalkan cara menanam tomat dan cabai yang hemat air. Caranya, tanah dibuat gundukan dan ditutup dengan plastik hitam. Tomat dan cabai ditanam di lubang-lubang plastik. Gagasan utama paragraf di atas adalah
- A. memperkenalkan tomat dengan cabai
 - B. cara menanam tomat dan cabai
 - C. plastik hitam untuk menutup tanah
 - D. tempat menanam cabai dan tomat
7. Banu melangkah cepat-cepat, Terik matahari yang panas menyengat kulitnya. Banu membayangkan segarnya teh manis yang diberi es batu

Kalimat yang tepat untuk melengkapi paragraf di atas adalah

- A. Banu kepanasan dan kehausan.
- B. Banu merasakan sakit kepala yang dahsyat.
- C. Banu kehabisan uang jajan.
- D. Banu takut hujan.

8. Rima tidak langsung pulang ke rumah setelah sekolah selesai.
Perbuatan Rima tidak baik karena

- A. memboroskan uang jajan
- B. membuang tenaga dengan sia-sia
- C. dapat membuat orang tua cemas
- D. melakukan pelanggaran peraturan

9. Ayah : "Selamat sore, Dokter!"
Dokter : "Selamat sore! Siapa yang sakit?"
Ayah : "Andi, Pak Dokter."
Dokter : "Baiklah, saya periksa sebentar.
Coba, buka baju , Andi!
Supaya lekas sembuh, Andi disuntik saja, ya?"

Isi percakapan tersebut adalah

- A. Ayah sedang berbicara dengan dokter.
- B. Andi ingin pergi ke dokter bersama ayah.
- C. Andi ingin disuntik Pak Dokter.
- D. Andi sedang berobat ke dokter karena sakit.

10. Mira :
Tari : "Selamat siang! Ya, saya sendiri!"
Mira : "Ini Mira, bisakah kita pergi ke rumah sakit untuk menjenguk Nana?"
Tari : "Ya, pukul berapa?"
Mira : "Sekarang juga!"
Tari : "Baik saya tunggu di pos keamanan!"

Kalimat yang tepat untuk melengkapi percakapan Mira di atas adalah

- A. "Selamat siang, ini siapa?"
- B. "Selamat siang, saya bicara dengan siapa?"
- C. "Selamat siang, bisa bicara dengan Tari"
- D. "Selamat siang, hai Tari!"

11.



Gambar di atas apabila disusun menjadi cerita yang baik, maka urutannya adalah

- A. A - B - C
 - B. B - A - C
 - C. C - B - A
 - D. C - A - B
12. Ibu menanyakan kepadaku apakah aku sudah baca buku cerita itu. Penggunaan dua kata yang salah pada kalimat di atas adalah
- A. Ibu, kepadaku
 - B. apakah, sudah
 - C. menanyakan, baca
 - D. kepadaku, cerita
13. Tamu : "Selamat malam! Apakah Pak Kusdi ada?"
 Anak : " ..., ...!"
 Tamu : "Terima kasih, Nak!"

Kalimat yang tepat untuk melengkapi percakapan di atas adalah

- A. "Ada Pak, silahkan tunggu sebentar!"
- B. "Ada Pak, Ayah ada tamu!"
- C. "Ada Pak, Bapak mau apa?"
- D. "Ada Pak, cari saja sendiri?"

14. Anwar : "Kalau mau latihan pramuka ke rumahku dulu, ya!"
Nana : "Kita berlatih apa nanti sore, Anwar?"
Anwar : "Menurut rencana Kak Udi, latihan tali-temali."
Bonar : "Latihan morse, Nan!"
Nana : "Dari mana kau tahu?"
Bonar : "Dari Bu Cik."
Anwar : "O, ya? Kita sama-sama berangkat nanti sore, ya!"
Bonar : "Baik, Anwar!" Nanti saya ke rumahmu dulu!"

Tema percakapan di atas adalah

- A. latihan tali-temali
 - B. latihan morse
 - C. latihan tali-temali dan morse
 - D. latihan pramuka
15. (1) Pembeli : "Berapa harga mangga ini sepuluh buah, Bu?"
(2) Pedagang : "Sekilo seribu lima ratus rupiah, Neng!"
(3) Pembeli : "Sekilo seribu lima ratus rupiah, Kok mahal sekali!"
(4) Pedagang : "Murah, Neng! Mangga ini adalah mangga manalagi super dan manis rasanya."

Berdasarkan percakapan di atas, kalimat yang mendiskripsikan tentang mangga adalah percakapan nomor

- A. 1
- B. 2
- C. 3
- D. 4

16. ...
Sepuluh tahun yang lalu ia terbaring
Tetapi bukan tidur, sayang
Sebuah lubang peluru bundar di dadanya
Senyum bekunya mau berkata
Aku sangat muda
...

Isi penggalan puisi di atas adalah

- A. Seorang pemuda yang terbaring membayangkan perang masa sepuluh tahun yang lalu.
 - B. Seorang pemuda yang dadanya terluka sedang berbaring sambil tersenyum di masa perang.
 - C. Seorang pejuang meninggal karena terluka dadanya pada masa perang dulu, sepuluh tahun yang lalu.
 - D. Seorang tidur dengan dada terluka akibat peperangan.
17. Ani membeli buku. Tari ingin mengetahui harga buku yang dibeli oleh Ani.

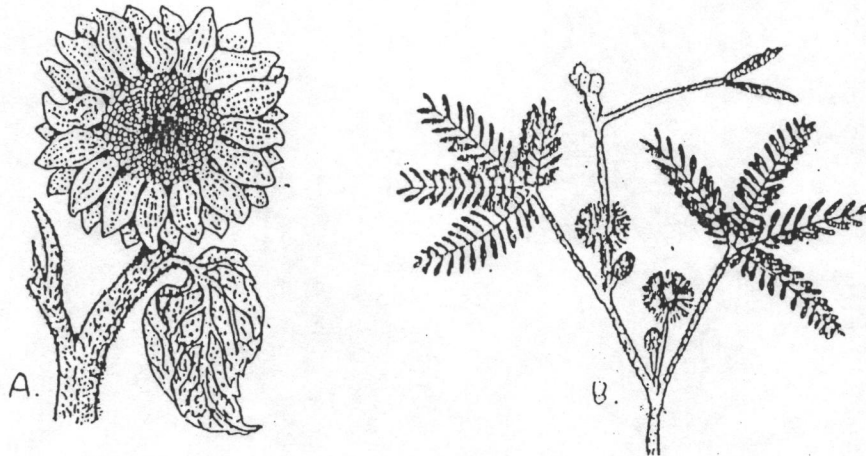
Kalimat tanya yang tepat dibuat Tari adalah

- A. Berapakah jumlah buku yang kau beli?
 - B. Berapakah harga buku yang kau beli itu?
 - C. Di manakah kau membeli buku itu?
 - D. Kapanakah kau membeli buku itu?
18. (1) Kotanya berbukit-bukit dan sejuk.
(2) Saya senang tinggal di rumah nenek.
(3) Kalau libur tiba.
(4) Saya akan berkunjung di rumah nenek di Ambon.

Kalimat-kalimat tersebut apabila disusun menjadi paragraf yang baik, urutannya adalah

- A. 2 - 3 - 1 - 4
- B. 3 - 2 - 4 - 1
- C. 3 - 4 - 1 - 2
- D. 4 - 2 - 1 - 3

19.



Kalimat simpulan yang tepat berdasarkan gambar di atas adalah

- A. Tumbuhan (a) dan (b) berdaun majemuk dan tunggal
 - B. Tumbuhan (a) berdaun tunggal, sedangkan tumbuhan (b) berdaun majemuk.
 - C. Kedua jenis tumbuhan itu berdaun tunggal dan berdaun majemuk.
 - D. Tumbuhan satunya berdaun tunggal dan satunya lagi berdaun majemuk.
20. Ketua kelas V diberi tugas oleh wali kelasnya untuk mengumumkan kepada teman-teman sekelasnya bahwa hari Sabtu akan diadakan kerja bakti. Murid-murid diharuskan membawa alat-alat kebersihan seperlunya.

Kalimat pengumuman yang tepat berdasarkan situasi di atas adalah

- A. Anak-anak, bawalah alat-alat kerja bakti yang akan digunakan pada hari Sabtu.
- B. Teman-teman, wali kelas mengumumkan bahwa hari Sabtu akan diadakan kerja bakti.
- C. Teman-teman wali kelas menyuruh kita untuk membawa alat-alat kebersihan seperlunya.
- D. Teman-teman, hari Sabtu kita akan mengadakan kerja bakti. Oleh karena itu setiap siswa diharuskan membawa satu alat kebersihan.

21. ...
"Anakku, badai dan angin topan akan menenggelamkan tubuhmu dan kapalmu di lautan yang dalam dan luas. Engkau bersama dengan seluruh barang-barangmu akan terkubur semuanya di lautan," demikian sumpah si ibu.
...

Isi penggalan cerita di atas adalah

- A. Seorang ibu yang sedang marah kepada anaknya.
 - B. Seorang ibu yang sedang menasehati anaknya.
 - C. Seorang ibu yang sedang merindukan anaknya.
 - D. Seorang ibu yang sedang menghawatirkan anaknya.
22. "Dia bukan ibu saya, dia orang miskin sedangkan saya kaya raya. Tidak mungkin dia itu ibu saya," kata Dampo Awang. "Saya malu mempunyai ibu seorang pengemis seperti dia."
"Jangan berkata begitu lancang," kata si sulung kepada Dampo Awang. "Dia sesungguhnya ibu kita, ibu yang melahirkan kita. Kita harus mengakuinya. Dia ibu kandung kita."
Isi yang tepat penggalan cerita tersebut adalah

- A. Janganlah kita melupakan orang tua kandung walaupun kita sudah hidup berhasil.
 - B. Orang tua kita hendaknya selalu kita kenang jasa-jasanya.
 - C. Anak seharusnya membalas jasa budi orang tua kita.
 - D. Kita tidak boleh berbuat jahat kepada orang tua sendiri.
23. Sebelum kita sampai tahap melipat dalam membuat mainan dari kertas, tindakan yang kita lakukan adalah
- A. menempelkan mainan tsb ke kertas kosong
 - B. menyiapkan perekat, kertas, dan kertas lipat
 - C. menekan-nekan bagian tepi mainan tsb
 - D. merapikan mainan, kemudian mengepalkannya

24. Keluarga Besar Haryo Kusuma

.....

Pada acara syukuran
Kelulusan ananda Permana
dari Universitas Indonesia

Hari/tanggal : Minggu, 29 September 1996

Waktu : pukul 10.00 WIB s.d. selesai

Tempat : Jl. Sisingamangaraja 73
Jakarta Selatan

Atas kehadirannya kami ucapkan terima kasih.

ttd

Haryo Kusuma

Kalimat yang tepat untuk melengkapi surat undangan di atas adalah

- A. menunggu kehadiran Bapak/Ibu/Saudara
- B. mengajak Bapak/Ibu/Saudara
- C. mengharapkan kehadiran Bapak/Ibu/Saudara
- D. menghimbau kehadiran Bapak/Ibu/Saudara

25. (1) Sapi-sapi Pak Badu diberi makan dan minum secara teratur.
(2) Pada malam hari sapi-sapi dimasukkan ke dalam kandang.
(3) Pak Badu memelihara sapi.
(4) Sapi-sapi Pak Badu sehat dan gemuk.

Urutan peristiwa di atas yang baik adalah

- A. 4 - 3 - 1 - 2
- B. 2 - 3 - 1 - 4
- C. 1 - 4 - 3 - 2
- D. 3 - 1 - 4 - 2

26. Sapi Pak Badu sehat dan gemuk.

Gabungan kata yang sejenis dengan kata sapi Pak Badu terdapat dalam kalimat

- A. Ayam menyukai serangga kecil.
- B. Pak Ali memelihara ayam bangkok.
- C. Anjing penjaga itu sangat galak.
- D. Ani meminjam buku saya kemarin.

27. Kita tidak dapat langsung melihat akar tumbuhan mangga, jambu, atau jagung. Akar tumbuh-tumbuhan itu terdapat dalam tanah., ada juga tumbuhan yang memiliki akar di atas permukaan tanah, misalnya pohon beringin.

Kata yang tepat untuk melengkapi bacaan di atas adalah

- A. namun
- B. dan
- C. karena
- D. melainkan

28. Kerangka karangan yang paling baik susunannya adalah

- A. Hari libur
 - 1. di rumah nenek
 - 2. membeli tiket
 - 3. menabung
 - 4. oleh-oleh untuk nenek
- B. Hari libur
 - 1. oleh-oleh untuk nenek
 - 2. menabung
 - 3. hari libur
 - 4. di rumah nenek
- C. Hari libur
 - 1. di rumah nenek
 - 2. oleh-oleh untuk nenek
 - 3. menabung
 - 4. membeli tiket
- D. Hari libur
 - 1. menabung
 - 2. oleh-oleh untuk nenek
 - 3. membeli tiket
 - 4. di rumah nenek

29. Rumah nenek saya kecil ... halamannya luas.
Kata gabung yang tepat untuk kalimat di atas adalah

- A. dan
- B. tetapi
- C. karena
- D. walaupun

30. Lima orang tewas dan lima lainnya luka berat, akibat dua kecelakaan yang terjadi di jalur Pantai Utara Subang pada hari Sabtu.

Isi pokok berita tersebut adalah ...

- A. Korban kecelakaan di Jalur Pantai Utara Subang
- B. Peristiwa yang terjadi di Jalur Pantai Utara Subang
- C. Akibat kecelakaan di Jalur Pantai Utara Subang
- D. Kecelakaan yang terjadi di Jalur Pantai Utara Subang

31.



Kalimat poster yang baik, sesuai gambar di atas adalah

- A. GATSBY melindungi rambut dari sinar dan panas matahari.
- B. Belilah minyak rambut GATSBY.
- C. Dimana-mana ada minyak rambut GATSBY.
- D. Ayah suka GATSBY, Ibupun suka GATSBY.

32. ...

Dewi Melati, begitu nama si bungsu, selalu diejek kedua kakaknya. Hal ini membuat hati putri bungsu sedih sekali.

"Ha ha haa ... lihat itu suami Melati, jalannya menggelinding seperti bola ...," teriak putri yang sulung.

"Ya ya yaa ... rupanya sudah jelek, tubuhnya tanpa bentuk pula. Apa sebenarnya yang dicari oleh Melati?" teriak putri kedua.

Sifat kedua kakak putri Melati berdasarkan penggalan cerita di atas adalah

- A. sombong
- B. jahil
- C. jahat
- D. jelek

33. Berpindah-pindah tempat tinggal adalah kebiasaan yang dahulu dilakukan oleh orang primitif.

Kata primitif berarti

- A. belum maju, sederhana
 - B. tidak berlebih-lebihan
 - C. tidak banyak tingkah
 - D. tidak pernah sekolah
34. Ungkapan kata terdapat dalam kalimat
- A. Ani suka memandang bintang di langit di malam hari.
 - B. Jari-jariku diberi tanda bintang karena berkuku panjang.
 - C. Dia pantas menjadi bintang pelajar karena ia rajin dan tekun belajar.
 - D. Liontin Ati yang berbentuk bintang hilang ketika sedang berenang.

35.

Pertolongan pertama

No. 01 / 00 / 96

Sudah diterima dari (1)

Pembayaran uang (2)

Untuk pembayaran (3)

Bekasi, 15-9-1996

(Burhan)

Isi yang tepat kuitansi di atas adalah

- A.
 1. Ali
 2. Rp 2000.000,-
 3. kerjasama pembuatan palet
 4. Dua juta rupiah
- B.
 1. Burhan
 2. Rp 2000.000,-
 3. kerjasama pembuatan palet
 4. Dua juta rupiah
- C.
 1. Ali
 2. Dua juta rupiah
 3. kerjasama pembuatan palet
 4. 2000.000,-
- D.
 1. Burhan
 2. Rp 2000.000,-
 3. kerjasama pembuatan palet
 4. Rp 2000.000,-

Pertolongan yang tepat

Sudah pukul tujuh pagi Samsu belum juga berangkat ke sekolah. Ia telah berpakaian dan menyiapkan tasnya. Rupanya masih ada yang dipikirkannya. Ia duduk di serambi muka, menunggu kawannya, Sapri. Sebentar kemudian muncullah Sapri di depan rumahnya seperti biasanya.

"Selamat pagi, Sam! Ayo, sudah pukul tujuh lewat," serunya.

"Sapri, hari ini saya tidak akan masuk sekolah."

"Ah, mengapa? sudah berpakaian rapi, ayolah, jangan sampai terlambat," jawab Sapri keheranan.

"Pri, benar-benar saya tidak berani masuk sekolah. Sekarang tanggal dua belas. Uang SPP tanggal sepuluh sudah harus dibayar. Saya kebingungan pagi ini. Ayah sedang ke pasar menjual buah-buahan, mungkin juga mencari uang untuk membayar SPP itu. Ibu sudah dua hari sakit panas. Dua orang adik saya sudah pergi ke sekolah. Mereka juga belum membayar uang SPP."

Sapri tidak tahan lagi mendengar kata-kata sahabatnya. Samsu tampaknya akan menangis. Matanya mulai berlinang.

"Baiklah Sam, jika begitu saya pergi sendiri. Tidak usah kamu masuk sekolah! Nanti saya mintakan izin kepada guru kita. Bantu ibumu saja di rumah! Pulang sekolah nanti saya singgah kemari. Saya berangkat, ya."

Samsu tidak menjawab. Suaranya tidak dapat keluar. Ia hanya mengangguk, sambil memandangi Sapri yang tampak tergesa-gesa.

Sesampai di sekolah, Sapri berdebar-debar melihat pekarangan sudah sepi, tanda pelajaran sudah dimulai. Tahulah bahwa ia terlambat. Apa yang harus dilakukannya? Segera ia menuju ke kantor Pak Hidayat, kepala sekolahnya, dan menerangkan kepadanya mengapa ia terlambat. Pak Hidayat lalu mengambil secarik kertas, dibuatnya catatan di atasnya, kemudian diberikannya kepada Sapri. Setelah memberi hormat kepada Pak Hidayat, ia langsung ke kelasnya.

Pada waktu istirahat, kepala sekolah memanggil Sapri ke kantornya lagi.

"Sapri, Bapak minta bantuanmu! Sampaikan kepada ayah Samsu, besok pagi Samsu boleh masuk sekolah."

"Baik, Pak."

Sapri keluar dari kantor Pak Hidayat dengan perasaan lega. Masih teringat olehnya peristiwa keterlambatannya tadi pagi. Dikiranya kepala sekolah akan marah kepadanya ternyata tidak.

36. Ringkasan isi cerita untuk wacana tersebut yang tepat adalah

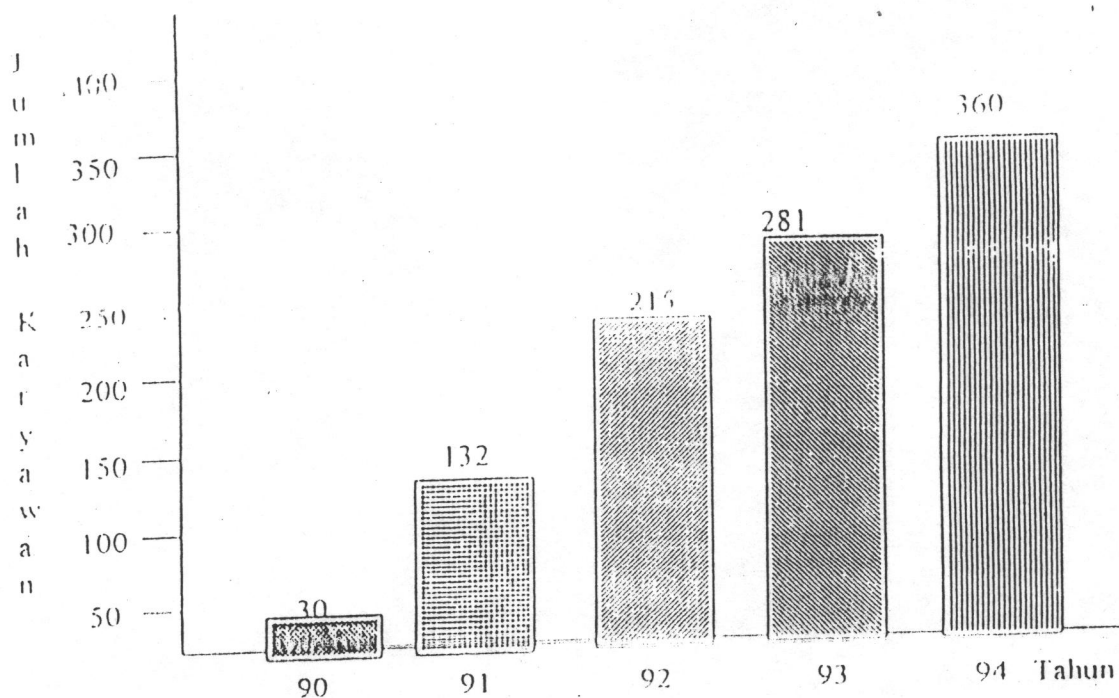
- A. Samsu tidak berangkat sekolah karena belum membayar uang sekolah. Ayahnya sedang pergi ke pasar menjual buah-buahan, sedangkan ibunya sakit. Samsu mengungkapkan semuanya kepada Sapri. Kemudian Sapri pergi ke sekolah. Dengan hati cemas, Sapri menuju ke ruang untuk menerangkan bahwa ia terlambat. Sapri merasa takut kalau kena marah. Ternyata kepala sekolah memberi surat kepada Sapri agar disampaikan kepada orang tua Samsu. Mulai besok Samsu boleh masuk sekolah lagi.
- B. Sapri ke rumah Samsu pagi-pagi benar. Samsu tidak masuk sekolah karena belum membayar uang sekolah dan ibunya sedang sakit. Sementara itu ayahnya sedang pergi ke pasar menjual buah-buahan. Kemudian Sapri pergi ke sekolah sendiri. Dilihatnya sekolah sepi. Ia lalu pergi ke ruang kepala sekolah untuk memberi tahu mengapa ia terlambat. Pak Hidayat langsung memanggil Sapri dan katanya, "Sampaikan surat ini kepada ayah Samsu, besok pagi Samsu boleh masuk sekolah."
- C. Pukul tujuh pagi Samsu belum berangkat ke sekolah. Ia telah berpakaian dan menyiapkan tasnya. Rupanya masih ada yang dipikirkannya. Ia menunggu kawannya, Sapri. Ayah sedang pergi ke pasar menjual buah-buahan. Kebetulan ibunya sakit, Sapri kemudian pergi ke sekolah sendiri. Sampai di sekolah ia merasa takut karena suasananya sudah sepi. Ia langsung menghadap kepala sekolah untuk menerangkan bahwa ia terlambat masuk sekolah. Ia takut kena marah. Ternyata Pak Hidayat akan titip surat untuk orang tua Samsu.
- D. Pak Hidayat memberi surat kepada Sapri untuk disampaikan kepada ayah Samsu agar mulai besok Samsu masuk sekolah. Kemudian Sapri menceritakan kepada Pak Hidayat sebab-sebab Samsu tidak masuk sekolah. Katanya ia tidak masuk sekolah karena belum membayar uang sekolah. Sekarang ayahnya sedang pergi ke pasar untuk menjual buah-buahan dan ibunya sedang sakit.

37. (1). Sedangkan ayah dan kakak membersihkan pekarangan, selanjutnya mereka mandi dan sarapan.
(2). Tepat pukul lima kami sudah bangun, lalu kami mengerjakan tugas masing-masing.
(3). Setelah sholat, saya dan ibu memasak, lalu kami menyiapkan sarapan pagi.
(4). Pagi-pagi rumahku sibuk, tetapi segala sesuatunya berjalan lancar.
(5). Kami sarapan pagi bersama-sama, kecuali adikku yang bungsu, dia masih tidur nyenyak.

Kalimat-kalimat di atas akan menjadi sebuah paragraf yang baik jika disusun menjadi

- A. (4), (3), (2), (1), (5)
- B. (3), (4), (2), (5), (1)
- C. (3), (2), (4), (1), (5)
- D. (4), (2), (3), (1), (5)

38. Grafik : Perkembangan Karyawan Industri tenun Silungkang



Penjelasan yang logis berdasarkan grafik di atas adalah

- A. Industri tenun Silungkang kualitas produknya meningkat dari tahun ke tahun.
 - B. Jumlah karyawan Industri Tenun Silungkang menurun pada 1994.
 - C. Dari segi jumlah karyawan Industri Tenun Silungkang terus meningkat dari tahun ke tahun.
 - D. Jumlah produksi Industri Tenun Silungkang menurun pada tahun 1990.
39. Kalimat langsung dengan penulisan yang benar menurut EYD adalah
- A. "Ibu bertanya", Kapan Rini pulang?
 - B. Ibu bertanya, "Kapan Rini pulang?"
 - C. Ibu bertanya "Kapan Rini pulang?"
 - D. "Ibu bertanya, kapan Rini pulang?"

40. Paragraf yang di dalamnya terdapat hubungan perbandingan adalah

- A. Agar berhasil dalam suatu wawancara, pelamar harus memperlihatkan kualitas pribadi dan keahlian. Oleh karena kesan pertama seseorang ditentukan oleh pakaian yang dikenakannya, pelamar kerja seharusnya berpakaian baik dan tidak berlebihan. Di samping kehati-hatian dalam penampilan, pelamar juga harus memperlihatkan cara berbicara.
- B. Apa yang akan terjadi bila hutan dibiarkan gundul? Ya, tanah akan jadi tandus akibat erosi. Sebab air hujan yang turun tidak ada penyanggahnya. Akibatnya bunga-bunga tanah akan terbawa air, tanahpun menjadi tandus.
- C. Pagi itu tidak awan yang menutupi puncak gunung Kerinci. Matahari pagi bersinar bebas menerpa puncak. Hijaunya dedaunan membuat mata tak hendak berhenti memandangnya.
- D. Pahatan rakyat Afrika hitam telah mempengaruhi banyak seniman modern. Contoh yang paling menonjol tentang hal ini ditemukan dalam hubungan yang nyata antara seniman-seniman Afrika primitif dengan seniman dari Spanyol, Pablo Picasso. Ditandai oleh bentuk-bentuk yang besar, pahatan afrika terlihat padat dan berat.

**SURVAI
ASPEK KEHIDUPAN RUMAH TANGGA INDONESIA 1997**

**PENGALAMAN
MATEMATIKA**
Umur 10-12 tahun



**DEPARTEMEN PENDIDIKAN DAN KEBUDAYAAN
BADAN PENELITIAN DAN PENGEMBANGAN PENDIDIKAN DAN KEBUDAYAAN
PUSAT PENELITIAN DAN PENGEMBANGAN SISTEM PENGUJIAN**

bekerja sama dengan

**LEMBAGA DEMOGRAFI FAKULTAS EKONOMI
UNIVERSITAS INDONESIA**

RAND


1997

1. Gambar yang merupakan bentuk persegi panjang adalah



A.



B.



C.



2. $65 = \dots$

- A. Enam puluhan + lima satuan
- B. Lima puluhan + enam satuan
- C. Enam lima satuan

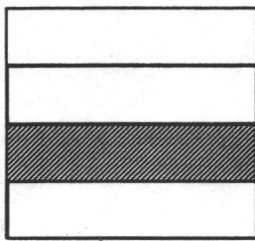
3. Amir mempunyai 26 ekor ayam jantan dan 53 ekor ayam betina. Jumlah seluruh ayam milik Amir ... ekor.

- A. 69
- B. 77
- C. 79

4. $267 + 112 - 189 = \dots$

- A. 180
- B. 188
- C. 190

5.



Daerah diarsir pada gambar adalah ... bagian.

- A. $\frac{1}{2}$
- B. $\frac{1}{3}$
- C. $\frac{1}{4}$

6.

$$\begin{array}{r} 4.169 \\ 29.934 \\ \hline \end{array} +$$

.....

- A. 34.103
- B. 34.093
- C. 33.103
- D. 33.093

7.

$$12.597 + n = 47.925$$

$n = \dots$

- A. 34.428
- B. 35.428
- C. 35.328
- D. 36.328

8.

$$4.516 : 4 = \dots$$

- A. 1.024
- B. 1.029
- C. 1.124
- D. 1.129

9.

$$2 \text{ km} + 2 \text{ hm} + 20 \text{ dam} + 12,5 \text{ m} + 4 \text{ cm} = \dots \text{ cm.}$$

- A. 22.454
- B. 22.354
- C. 24.229
- D. 241.254

10. $\frac{56}{84} = \dots$

- A. $\frac{4}{7}$
- B. $\frac{2}{3}$
- C. $\frac{3}{4}$
- D. $\frac{5}{6}$

11. $3,5 \text{ ton} + 2,5 \text{ kuintal} + 105 \text{ kg} = \dots \text{ kg}$

- A. 3.855
- B. 3.805
- C. 3.755
- D. 3.705

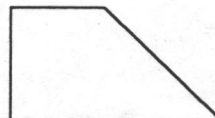
12.



I



II



III



IV

Pada gambar di atas, bangun yang memiliki simetri lipat adalah

- A. I
- B. II
- C. III
- D. IV

13. Kelipatan persekutuan terkecil dari 3 dan 5 adalah

- A. 9
- B. 10
- C. 15
- D. 20

14. $\frac{1}{3} - \frac{1}{6} = \dots$

- A. $\frac{2}{3}$
B. $\frac{1}{3}$
C. $\frac{1}{6}$
D. $\frac{1}{9}$

15. Budi membeli kelereng 1 lusin, ayahnya membelikan 2 lusin dan ibunya membelikan setengah lusin. Berapa jumlah seluruh kelereng Budi?

- A. 30
B. 36
C. 42
D. 48

16. $105.064 : 23 = \dots$

- A. 4.556
B. 4.558
C. 4.566
D. 4.568

17. Luas suatu persegi 2.025 cm^2 , panjang sisinya adalah

- A. 25
B. 35
C. 45
D. 55

18. Bentuk desimal dari $\frac{1}{9}$ adalah

- A. 0,101
- B. 0,111
- C. 0,112
- D. 0,121

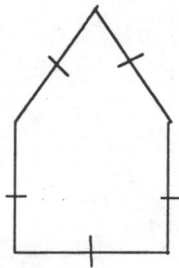


19. $(412 + 213) : (243 - 118) = \dots$

- A. 125
- B. 75
- C. 25
- D. 5

~~Yellow CKPA~~

20.



Pada gambar di samping, panjang rusuk-rusuknya 12 cm. Keliling bangun tersebut

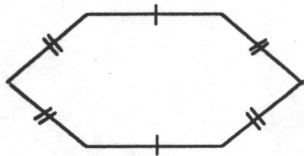
- A. 72
- B. 60
- C. 58
- D. 56

21. $\frac{2}{3} \times 1 \frac{5}{7} \cdot \frac{1}{7} = \dots$

- A. $\frac{1}{8}$
- B. $\frac{1}{3}$
- C. 3
- D. 8



22.



Banyaknya simetri lipat pada gambar di samping adalah

- A. 6
- B. 4
- C. 3
- D. 2

23. $0,76 - 0,4 - 0,23 = \dots$

- A. 0,11
- B. 0,12
- C. 0,13
- D. 0,16

24. $0,6 + 20\% - 0,2 + 10\% = \dots$

- A. 0,8
- B. 0,7
- C. 0,6
- D. 0,5

25.

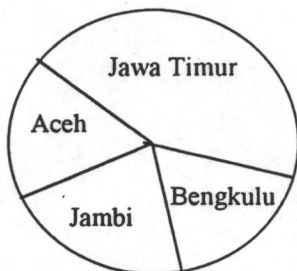


Diagram lingkaran tentang jumlah penduduk di setiap propinsi.

Propinsi yang paling banyak penduduknya berdasarkan diagram tersebut adalah

- A. Aceh
- B. Bengkulu
- C. Jawa Timur
- D. Jambi

26. Faktor prima dari 2.520 adalah

- A. $2^2 \times 3^2 \times 5^2 \times 7$
- B. $2^3 \times 3^2 \times 5 \times 7$
- C. $2^2 \times 3 \times 5^2 \times 7$
- D. $2 \times 5 \times 7$

27. Jundi, Fikri dan Ihsan bermain kelereng. Perbandingan jumlah kelereng mereka adalah $3 : 5 : 7$. Jika kelereng Jundi 60 butir, maka jumlah kelereng ketiga anak itu adalah
- A. 100 butir
 - B. 140 butir
 - C. 200 butir
 - D. 300 butir
28. Jarak kota A dan kota B pada peta 3,5 cm. Bila skala peta tersebut $1 : 2.000.000$, maka jarak sesungguhnya adalah
- A. 70 km
 - B. 700 km
 - C. 7.000 km
 - D. 70.000 km
29. Sebuah mobil melaju dengan kecepatan 60 km/jam. Jika mobil tersebut telah menempuh jarak 160 km, maka waktu yang telah ditempuhnya adalah
- A. 2 jam 20 menit
 - B. 2 jam 30 menit
 - C. 2 jam 40 menit
 - D. 2 jam 50 menit
30. Letak titik koordinat yang sesuai pada persamaan $x + y = 12$, adalah
- A. $(-5, -7)$
 - B. $(5, -7)$
 - C. $(-5, 7)$
 - D. $(5, 7)$
31. Ali membeli motor seharga Rp 1.750.000,00. Ia ingin menjual kembali motor tersebut dengan mengambil untung 15 %. Besarnya keuntungan yang akan diperoleh Ali adalah
- A. Rp 150.000,00
 - B. Rp 245.000,00
 - C. Rp 262.500,00
 - D. Rp 350.000,00

32. Suatu benda berbentuk kerucut dengan diameter alasnya 54 cm. Bila tinggi kerucut 100 cm, maka volum kerucut tersebut adalah ($\pi = 3,14$)
- 76.302 cm^3
 - 114.453 cm^3
 - 152.604 cm^3
 - 228.906 cm^3
33. $\frac{2}{3} : \frac{2}{7} = \dots$
- $\frac{4}{21}$
 - $\frac{3}{7}$
 - $1\frac{1}{6}$
 - $2\frac{1}{3}$
34. Suatu taman bunga berbentuk lingkaran berjari-jari 21 m. Di tengah taman terdapat kolam yang berjarak 7 m dari sekeliling taman. Keliling kolam yang ada di taman tersebut adalah ($\pi = \frac{22}{7}$)
- 44 m
 - 88 m
 - 132 m
 - 154 m
35. Rata-rata dari data 5 6 7 4 7 6 5 5 4 4 adalah
- 6,3
 - 6,2
 - 5,3
 - 5,2

36. Himpunan kelipatan persekutuan dari 3 dan 6 yang kurang dari 30 adalah
- A. { 0, 6, 18, 24 }
 - B. { 0, 6, 18, 24, 28 }
 - C. { 0, 6, 12, 24 }
 - D. { 0, 6, 12, 18, 24 }
37. Jika 65 persen penduduk bercocok tanam, sedang penduduknya sejumlah 160 juta, maka banyaknya penduduk yang tidak bercocok tanam adalah
- ~~Yellow EK 21~~
- A. 35 juta
 - B. 40 juta
 - C. 48 juta
 - D. 56 juta
38. Uang tabungan si Ali di bank Rp 75.000,00. Jika setahun kemudian bunganya 5%, maka besar bunga yang diterima Ali adalah
- ~~Yellow EK 22~~
- A. Rp 7.500,00
 - B. Rp 3.750,00
 - C. Rp 750,00
 - D. Rp 375,00
39. Di antara huruf-huruf K, L, M, N, P, H yang mempunyai simetri lipat adalah
- A. M, N, H
 - B. K, M, H
 - C. L, P, H
 - D. K, M, N
40. Segitiga ABC sama kaki. Bila $AC = BC$ dan sudut $A = 70^\circ$, maka besar sudut C adalah
- A. 55°
 - B. 40°
 - C. 30°
 - D. 20°