

TES EVALUASI MATEMATIKA

KELAS 1 SD

1	4	2	9	6
---	---	---	---	---

2	13	10	16	19
---	----	----	----	----

3	16	19	14	18
---	----	----	----	----

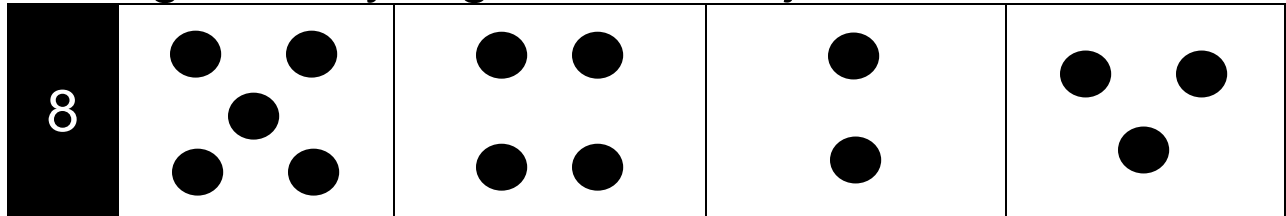
4	36	46	48	49
---	----	----	----	----

5	96	59	86	69
---	----	----	----	----

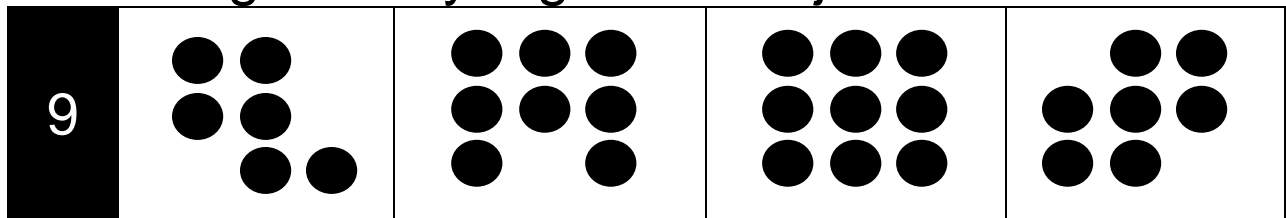
6	72	63	73	85
---	----	----	----	----

7	36	46	48	49
---	----	----	----	----

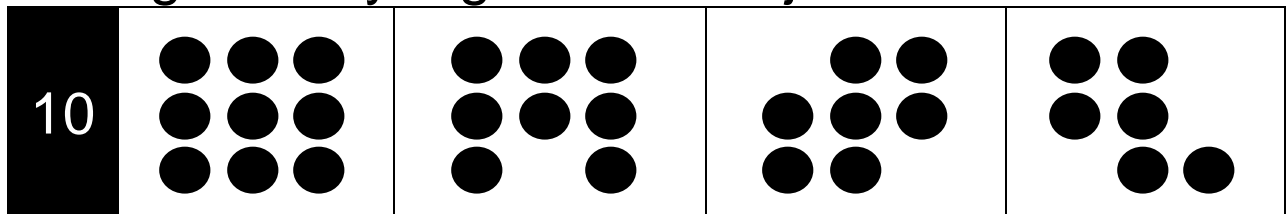
Pilih gambar yang memiliki 5 jumlah bulatan





Pilihlah gambar yang memiliki jumlah 7 bulatan




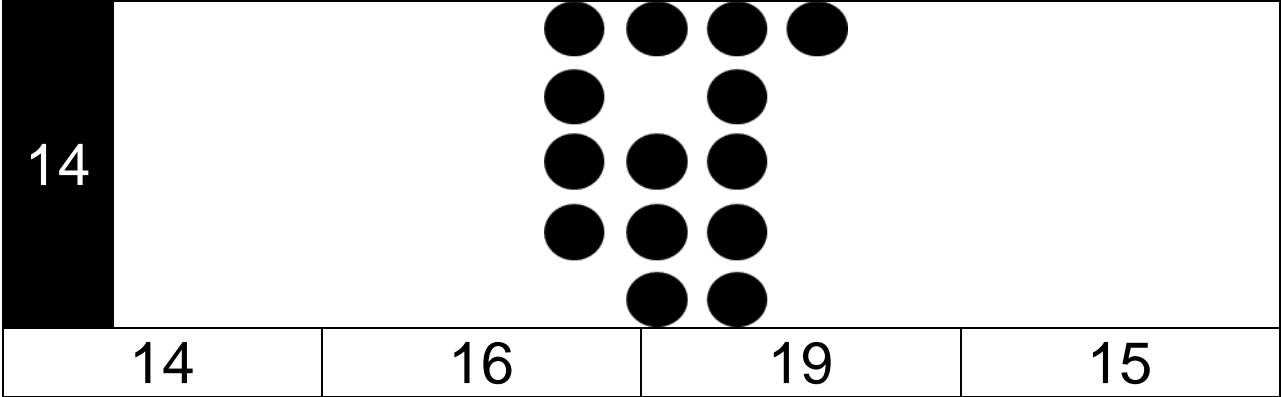
Pilih gambar yang memiliki 8 jumlah bulatan



11				
	19	15	16	14

12				
	17	18	16	15

13				
	39	40	41	42



15

Kartu dengan angka yang **paling besar** adalah...

46

69

36

59

Perhatikan gambar kartu di bawah ini!

CATATAN: Gunakan alat bantu *showcard* yang terdapat pada lampiran untuk membantu menjelaskan soal berikut (Apabila anak sudah bisa mengurutkan tanpa menggunakan *showcard*, administrator bisa langsung melanjutkan pertanyaan tanpa menunjukkan *showcard*)

5	8	6	7
---	---	---	---

16	Kartu dengan urutan dari yang terkecil sampai terbesar adalah...
----	---

5	7	8	6
---	---	---	---

6	7	5	8
---	---	---	---

8	7	6	5
---	---	---	---

5	6	7	8
---	---	---	---

Perhatikan gambar kartu di bawah ini!

CATATAN: Gunakan alat bantu *showcard* yang terdapat pada lampiran untuk membantu menjelaskan soal berikut (Apabila anak sudah bisa mengurutkan tanpa menggunakan *showcard*, administrator bisa langsung melanjutkan pertanyaan tanpa menunjukkan *showcard*)

17	16	42
----	----	----

17	Kartu dengan urutan dari yang terbesar sampai terkecil adalah...	
----	--	--

17	16	42
----	----	----

42	17	16
----	----	----

16	17	42
----	----	----

16	42	17
----	----	----

18	$\begin{array}{r} 7 \\ 0 \\ \hline \dots \end{array} +$		
	70	7	0

19	$\begin{array}{r} 15 \\ 4 \\ \hline \dots \end{array} +$		
	19	18	9

20	$\begin{array}{r} 20 \\ 16 \\ \hline \dots \end{array} +$		
	26	35	36

21	$\begin{array}{r} 17 \\ 10 \\ \hline \dots \end{array} +$		
	17	27	16

22	$\begin{array}{r} 19 \\ - 5 \\ \hline \dots \end{array}$		
	4	15	5
			14

23	$\begin{array}{r} 5 \\ - 3 \\ \hline \dots \end{array}$		
	12	11	2
			1

24	$\begin{array}{r} 18 \\ - 11 \\ \hline \dots \end{array}$		
	7	27	17
			29

25	$\begin{array}{r} 55 \\ 43 \\ \hline \dots \end{array} +$		
	12	98	34
			88

26	$\begin{array}{r} 25 \\ 34 \\ \hline \dots \end{array} +$		
	51	25	61
			59

27	$\begin{array}{r} 73 \\ 25 \\ \hline \dots \end{array} +$		
	88	82	92
			98

28	$\begin{array}{r} 15 \\ 82 \\ \hline \dots \end{array} +$		
	87	97	83
			93

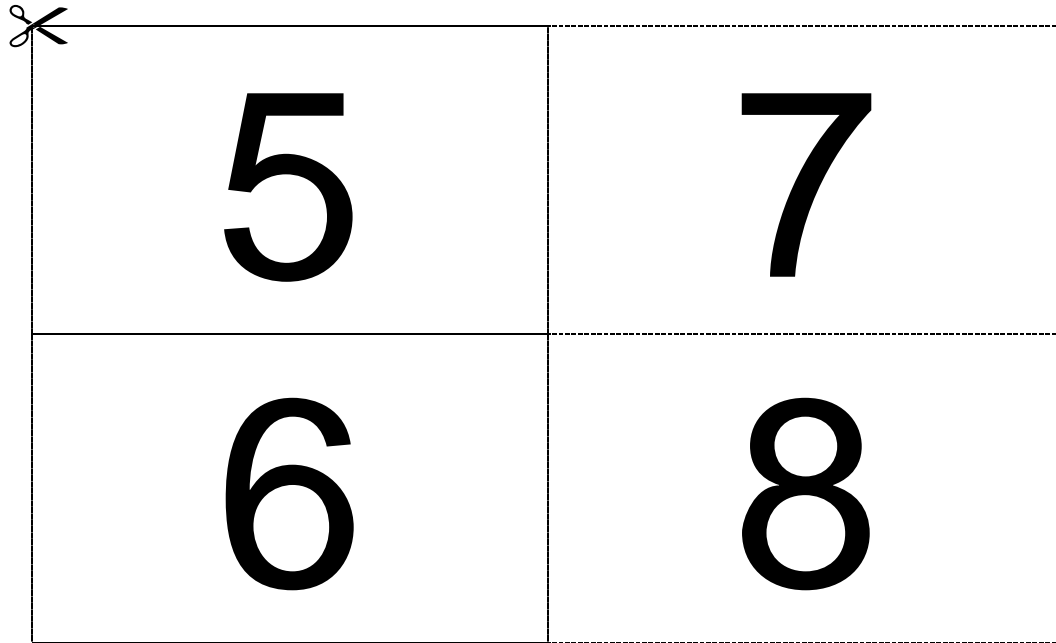
29	$\begin{array}{r} 83 \\ 42 _ \\ \hline \dots \end{array}$		
	45	41	55
			51

30	$\begin{array}{r} 75 \\ 21 _ \\ \hline \dots \end{array}$		
	54	41	55
			51

---Selesai---

LAMPIRAN

Potong kotak di bawah ini untuk membantu menyampaikan soal nomor 16 di buku tes!



Potong kotak di bawah ini untuk membantu menyampaikan soal nomor 17 di buku tes!

